

1. Ispitati tok i skicirati grafik funkcije $y = x^3 - 3x + 2$

Oblast definisanosti (domen)

Kako zadata funkcija nema razlomak, to je $x \in (-\infty, \infty)$ to jest $x \in \mathbb{R}$

Nule funkcije

$$y = 0 \text{ to jest } x^3 - 3x + 2 = 0$$

Ovo je jednačina trećeg stepena. U ovakvim situacijama možemo koristiti Bezuovu teoremu (pogledaj fajl iz 1. godine) ili da pokušamo sklapanje “ 2 po 2”.

$$x^3 - 3x + 2 = 0$$

$$x^3 - x - 2x + 2 = 0$$

$$x(x^2 - 1) - 2x + 2 = 0$$

$$x(x-1)(x+1) - 2(x-1) = 0 \quad \text{izvučemo zajednički}$$

$$(x-1)[x(x+1) - 2] = 0$$

$$(x-1)[x^2 + x - 2] = 0$$

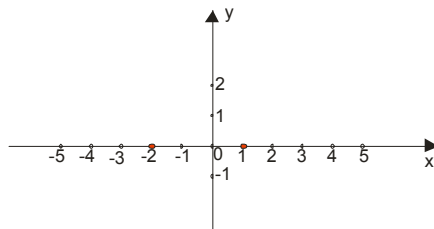
Kako je za $x^2 + x - 2 = 0$ $x_1 = 1, x_2 = -2$ a znamo formulu $ax^2 + bx + c = a(x - x_1)(x - x_2)$ to je

$$(x-1)(x-1)(x+2) = 0$$

$$(x-1)^2(x+2) = 0$$

Nule funkcije su dakle $x = 1$ i $x = -2$

Na skici to su mesta gde grafik funkcije seče x osu



Znak funkcije

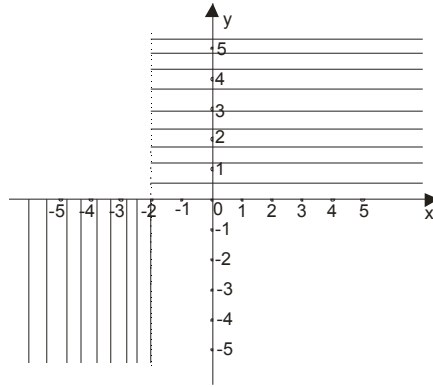
Posmatrajmo “ sklopljeni” oblik funkcije $y = (x-1)^2(x+2)$

Odavde možemo zaključiti da je $(x-1)^2 \geq 0$ pa ne utiče na znak funkcije. Dakle znak zavisi samo od izraza $x+2$:

$y > 0$ za $x + 2 > 0$ to jest za $x > -2$

$y < 0$ za $x + 2 < 0$ to jest za $x < -2$

Na grafiku bi to značilo :



Grafik se nalazi samo u ovim obeleženim oblastima.

Parnost i neparnost

$$f(-x) = (-x)^3 - 3(-x) + 2 = -x^3 + 3x + 2$$

A ovo je $\neq f(x)$ i $\neq -f(x)$

Dakle funkcija nije ni parna ni neparna pa ne postoji simetričnost grafika ni u odnosu na y osu ni u odnosu na koordinatni početak.

Ekstremne vrednosti (max i min) i monotonost (rašćenje i opadanje)

$$y = x^3 - 3x + 2$$

$$y' = 3x^2 - 3$$

$$y' = 0$$

$$3x^2 - 3 = 0$$

$$3(x-1)(x+1) = 0 \rightarrow x = 1 \vee x = -1$$

Za $x = -1$

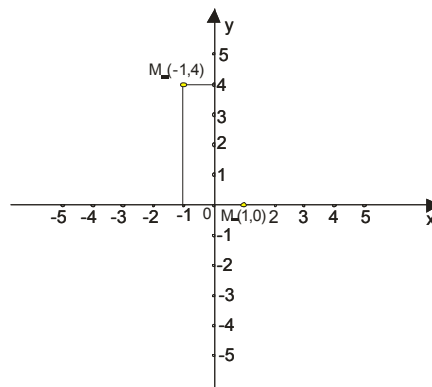
$$y = (-1)^3 - 3 \cdot (-1) + 2 = -1 + 3 + 2 = 4$$

Dobili smo tačku $M_1(-1, 4)$

Za $x = 1$

$$y = 1^3 - 3 \cdot 1 + 2 = 0$$

Dobili smo tačku $M_2(1, 0)$

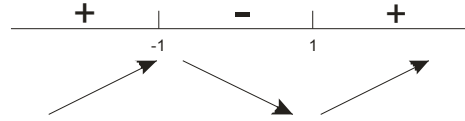


Za rašćenje i opadanje znamo da kada je $y' > 0$ tu funkcija raste, a za $y' < 0$ funkcija opada.

Kako je $y' = 3x^2 - 3$ upotrebićemo znanje iz II godine da kvadratni trinom ima znak broja a svuda osim između nula...



pa je onda



Funkcija raste za $x \in (-\infty, -1) \cup (1, \infty)$

Funkcija opada za $x \in (-1, 1)$

Prevojne tačke i konveksnost i konkavnost

Tražimo drugi izvod...

$$y' = 3x^2 - 3$$

$$y'' = 6x$$

$$y'' = 0$$

$$6x = 0 \rightarrow x = 0$$

Ovu vrednost menjamo u početnu funkciju


za $x = 0$


$$y = 0^3 - 3 \cdot 0 + 2$$

$$y = 2$$

Dobili smo tačku prevoja $P(0, 2)$

Znamo da je za $y'' > 0$ funkcija konveksna (smeje se) a za $y'' < 0$ konkavna (mršti se)

$y'' > 0$ za $6x > 0$, to jest $x > 0$ 

$y'' < 0$ za $6x < 0$, to jest $x < 0$ 

Asimptote funkcije (ponašanje funkcije na krajevima oblasti definisanosti)

Vertikalna asimptota

Ne postoji jer funkcija nema nigde prekid, odnosno definisana je svuda...

Horizontalna asimptota

$$\lim_{x \rightarrow \infty} (x^3 - 3x + 2) = \lim_{x \rightarrow \infty} (x-1)^2 (x+2) = \infty \cdot \infty = \infty$$

$$\lim_{x \rightarrow -\infty} (x^3 - 3x + 2) = \lim_{x \rightarrow -\infty} (x-1)^2 (x+2) = \infty \cdot (-\infty) = -\infty$$

Dakle, nemamo horizontalnu asimptotu.

Kosa asimptota

$$y = kx + n$$

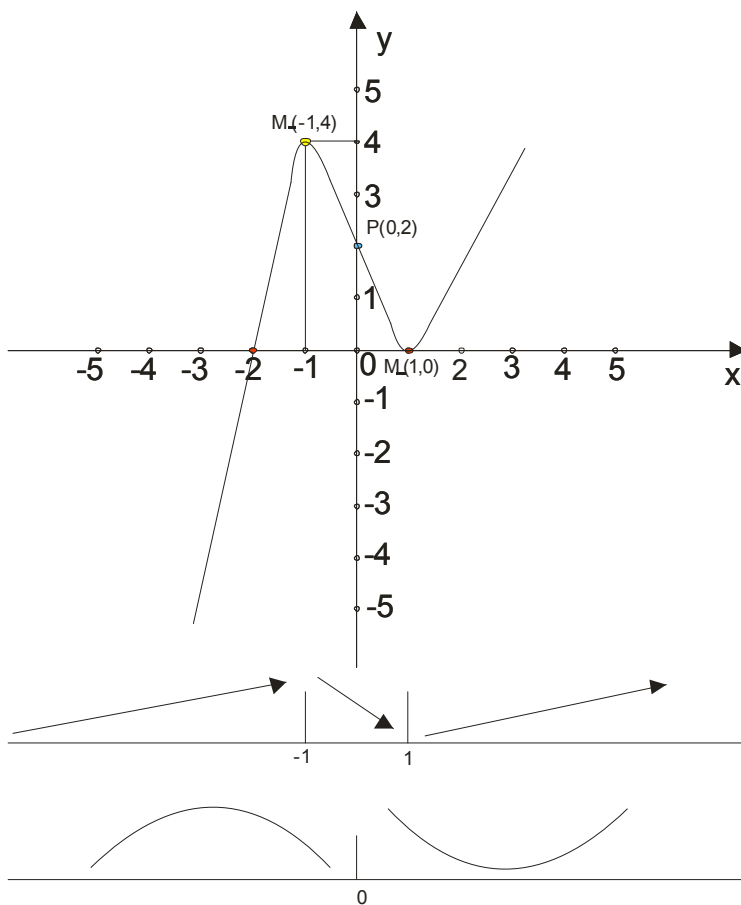
$$k = \lim_{x \rightarrow \pm\infty} \frac{f(x)}{x} = \lim_{x \rightarrow \pm\infty} \frac{x^3 - 3x + 2}{x} = \infty$$

Dakle, nema ni kose asimptote...

Skica grafika

Kao što smo videli svaka tačka u ispitivanju toka funkcije nam kaže po nešto o tome kako funkcija izgleda.

Da nacrtamo sada celu funkciju...



Predlažemo vam da za početak ispod grafika nanese paralelno dve prave na kojima ćete najpre uneti rezultate za monotonost i konveksnost. To bi trebalo da pomogne...

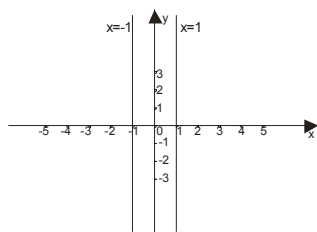
2. Ispitati tok i skicirati grafik funkcije $y = \frac{x^2 - 4}{1 - x^2}$

Oblast definisanosti (domen)

Funkcija je definisana za $1 - x^2 \neq 0$ to jest $(1 - x)(1 + x) \neq 0$ odnosno $x \neq 1$ i $x \neq -1$

Dakle $x \in (-\infty, -1) \cup (-1, 1) \cup (1, \infty)$

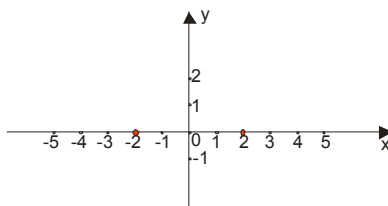
Ovo nam govori da funkcija ima prekide u $x = -1$ i $x = 1$ (tu su nam asimptote)



Nule funkcije

$y = 0$ za $x^2 - 4 = 0 \rightarrow (x - 2)(x + 2) = 0 \rightarrow x = 2 \vee x = -2$

Dakle, grafik seče x osu u dvema tačkama -2 i 2



Znak funkcije

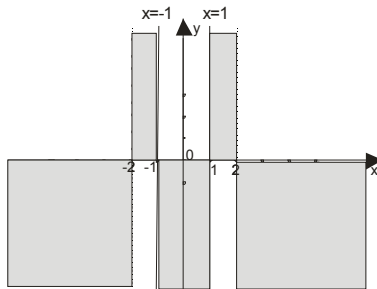
$y = \frac{x^2 - 4}{1 - x^2} = \frac{(x - 2)(x + 2)}{(1 - x)(1 + x)}$ Najbolje je koristiti tablicu...

	$-\infty$	-2	-1	1	2	∞
x-2	-	-	-	-	+	+
x+2	-	+	+	+	+	+
1-x	+	+	+	-	-	-
1+x	-	-	+	+	+	+
y	-	+	-	+	-	-

Šta nam tablica govori?

Ona nam kaže gde je grafik **iznad** x ose (gde su **plusevi**) i gde je **ispod** x ose (gde su **minusi**)

Na slici bi to izgledalo ovako:



Funkcija postoji samo u osenčenim delovima.

Parnost i neparnost

$$f(-x) = \frac{(-x)^2 - 4}{1 - (-x)^2} = \frac{x^2 - 4}{1 - x^2} = f(x)$$

Dakle , funkcija je parna, pa će grafik biti **simetričan u odnosu na y osu**.

Ekstremne vrednosti (max i min) i monotonost (rašćenje i opadanje)

$$y = \frac{x^2 - 4}{1 - x^2}$$

$$y' = \frac{(x^2 - 4)'(1 - x^2) - (1 - x^2)'(x^2 - 4)}{(1 - x^2)^2}$$

$$y' = \frac{2x(1 - x^2) - (-2x)(x^2 - 4)}{(1 - x^2)^2}$$

$$y' = \frac{2x(1 - x^2) + 2x(x^2 - 4)}{(1 - x^2)^2} \quad \text{izvučemo } 2x \text{ kao zajednički ispred zagrade...}$$

$$y' = \frac{2x(1 - x^2 + x^2 - 4)}{(1 - x^2)^2}$$

$$y' = \frac{-6x}{(1 - x^2)^2}$$

$y' = 0$ za $-6x = 0$, pa je $x = 0$ tačka ekstrema. Kad zamenimo $x = 0$ u početnu funkciju, dobijamo:

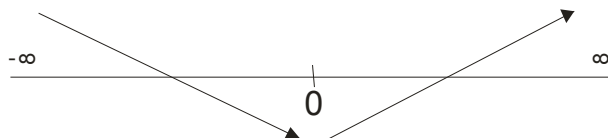
$$y = \frac{0^2 - 4}{1 - 0^2} = -4$$

Dobili smo tačku ekstremne vrednosti **M(0,-4)**

Za monotonost nam treba znak prvog izvoda. Razmislimo malo...

Izraz u imeniocu je uvek pozitivan (zbog kvadrata) , tako da na znak prvog izvoda utiče samo izraz u brojiocu.

Dakle $y' > 0 \rightarrow -6x > 0 \rightarrow x < 0$
 $y' < 0 \rightarrow -6x < 0 \rightarrow x > 0$



Na skici to bi izgledalo :

Dobijena tačka M(0,-4) je dakle tačka minimuma.

Prevojne tačke i konveksnost i konkavnost

$$y' = \frac{-6x}{(1-x^2)^2}$$

$$y'' = \frac{(-6x)'(1-x^2)^2 - ((1-x^2)^2)'(-6x)}{(1-x^2)^4}$$

pazi , izraz $((1-x^2)^2)'$ mora kao izvod složene funkcije...

$$y'' = \frac{-6(1-x^2)^2 - 2(1-x^2)(-2x)(-6x)}{(1-x^2)^4}$$

$$y'' = \frac{-6(1-x^2)^2 - 24x^2(1-x^2)}{(1-x^2)^4}$$

izvučemo $(1-x^2)$ ispred zagrade...

$$y'' = \frac{(1-x^2)[-6(1-x^2) - 24x^2]}{(1-x^2)^4}$$

$$y'' = \frac{-6 + 6x^2 - 24x^2}{(1-x^2)^3}$$

$$y'' = \frac{-6 - 18x^2}{(1-x^2)^3}$$

$$y'' = \frac{-6(1+3x^2)}{(1-x^2)^3}$$

$y'' = 0$ za $-6(3x^2 + 1) = 0$, a ovo nema racionalna rešenja, što nam govori da funkcija nema prevojnih tačaka.

Konveksnost i konkavnost ispitujemo iz znaka drugog izvoda. Razmislimo opet malo...

$3x^2 + 1 > 0$ pa on ne utiče na znak drugog izvoda .

Radićemo tablično, ali vodimo računa da u tablici mora biti i -6.

	$-\infty$	-1	1	∞
-6	—	—	—	
$1-x$	+	+	—	
$1+x$	—	+	+	
y''	+	—	+	

Asimptote funkcije (ponašanje funkcije na krajevima oblasti definisanosti)

Vertikalna asimptota

$$\lim_{x \rightarrow 1+\varepsilon, \text{ kad } \varepsilon \rightarrow 0} \frac{x^2 - 4}{1 - x^2} = \lim_{x \rightarrow 1+\varepsilon, \text{ kad } \varepsilon \rightarrow 0} \frac{x^2 - 4}{(1-x)(1+x)} = \frac{1^2 - 4}{(1 - (1 + \varepsilon))(1 + 1 + \varepsilon)} = \frac{-3}{(1 - 1 - \varepsilon)2} = \frac{-3}{(-\varepsilon)2} = +\infty$$

$$\lim_{x \rightarrow 1-\varepsilon, \text{ kad } \varepsilon \rightarrow 0} \frac{x^2 - 4}{1 - x^2} = \lim_{x \rightarrow 1-\varepsilon, \text{ kad } \varepsilon \rightarrow 0} \frac{x^2 - 4}{(1-x)(1+x)} = \frac{1^2 - 4}{(1 - (1 - \varepsilon))(1 + 1 - \varepsilon)} = \frac{-3}{(1 - 1 + \varepsilon)2} = \frac{-3}{\varepsilon 2} = -\infty$$

$$\lim_{x \rightarrow -1+\varepsilon, \text{ kad } \varepsilon \rightarrow 0} \frac{x^2 - 4}{1 - x^2} = \lim_{x \rightarrow -1+\varepsilon, \text{ kad } \varepsilon \rightarrow 0} \frac{x^2 - 4}{(1-x)(1+x)} = \frac{(-1)^2 - 4}{(1 - (-1 + \varepsilon))(1 + (-1 + \varepsilon))} = \frac{-3}{(2 - \varepsilon)\varepsilon} = \frac{-3}{2\varepsilon} = -\infty$$

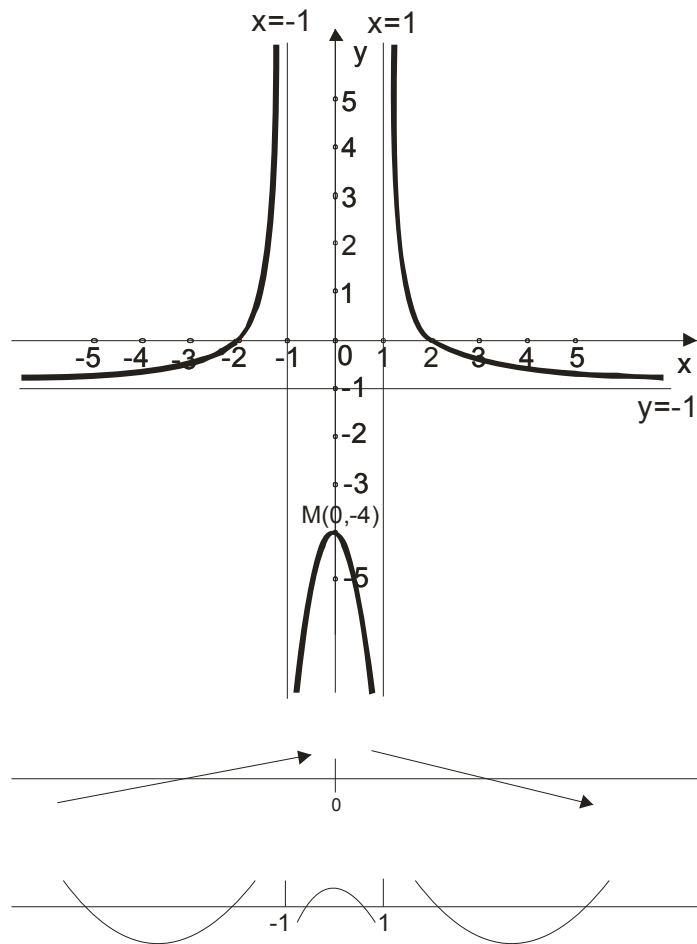
$$\lim_{x \rightarrow -1-\varepsilon, \text{ kad } \varepsilon \rightarrow 0} \frac{x^2 - 4}{1 - x^2} = \lim_{x \rightarrow -1-\varepsilon, \text{ kad } \varepsilon \rightarrow 0} \frac{x^2 - 4}{(1-x)(1+x)} = \frac{(-1)^2 - 4}{(1 - (-1 - \varepsilon))(1 + (-1 - \varepsilon))} = \frac{-3}{(2 + \varepsilon)(-\varepsilon)} = \frac{-3}{2(-\varepsilon)} = +\infty$$

Horizontalna asimptota

$$\lim_{x \rightarrow \pm\infty} \frac{x^2 - 4}{1 - x^2} = -\frac{1}{1} = -1 \text{ pa je } \underline{y = -1} \text{ horizontalna asimptota}$$

Znači da, pošto ima horizontalna asimptota, kose asimptote nema.

Još da sklopimo konačan grafik:



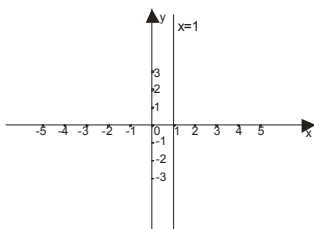
3. Ispitati tok i skicirati grafik funkcije $y = \frac{x^2 - 4}{x - 1}$

Oblast definisanosti (domen)

Funkcija je definisana za $x - 1 \neq 0$ odnosno $x \neq 1$

Dakle $x \in (-\infty, 1) \cup (1, \infty)$

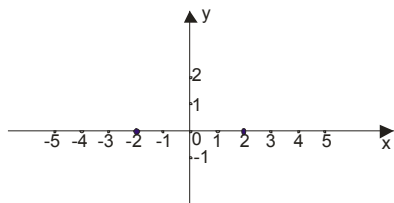
Znači, u $x=1$ je vertikalna asimptota



Nule funkcije

$$y = 0 \text{ za } x^2 - 4 = 0 \rightarrow (x-2)(x+2) = 0 \rightarrow x = 2 \vee x = -2$$

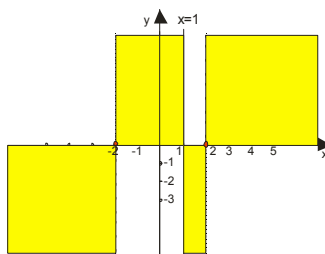
Dakle, grafik seče x osu u dvema tačkama $x = -2$ i $x = 2$



Znak funkcije

$$y = \frac{x^2 - 4}{x - 1} = \frac{(x-2)(x+2)}{x-1}$$

	$-\infty$	-2	1	2	∞
x-2	-	-	-	+	
x+2	-	+	+	+	
x-1	-	-	+	+	
y	-	+	-	+	



Funkcija je u žuto osenčenim oblastima.

Parnost i neparnost

$$f(-x) = \frac{(-x)^2 - 4}{-x - 1} = \frac{x^2 - 4}{-x - 1}$$

Funkcija nije ni parna ni neparna.

Ekstremne vrednosti (max i min) i monotonost (rašćenje i opadanje)

$$y = \frac{x^2 - 4}{x - 1}$$

$$y' = \frac{(x^2 - 4)'(x - 1) - (x - 1)'(x^2 - 4)}{(x - 1)^2}$$

$$y' = \frac{2x(x - 1) - 1(x^2 - 4)}{(x - 1)^2}$$

$$y' = \frac{2x^2 - 2x - 1x^2 + 4}{(x - 1)^2} = \frac{x^2 - 2x + 4}{(x - 1)^2}$$

$$y' = 0 \text{ za } x^2 - 2x + 4 = 0$$

Kako je $x^2 - 2x + 4 > 0$ jer je $a > 0 \wedge D < 0$ (pogledaj fajl iz druge godine, kvadratna funkcija)

zaključujemo da funkcija **nema ekstremnih vrednosti**, i da je **stalno rastuća**. ($y' > 0$)

Prevojne tačke i konveksnost i konkavnost

$$y' = \frac{x^2 - 2x + 4}{(x-1)^2}$$

$$y'' = \frac{(x^2 - 2x + 4)'(x-1)^2 - ((x-1)^2)'(x^2 - 2x + 4)}{(x-1)^4}$$

$$y'' = \frac{(2x-2)(x-1)^2 - 2(x-1)(x^2 - 2x + 4)}{(x-1)^4} \text{ gore izvučemo } x-1 \text{ ispred zagrade}$$



$$y'' = \frac{(x-1)[(2x-2)(x-1) - 2(x^2 - 2x + 4)]}{(x-1)^4}$$

$$y'' = \frac{[2x^2 - 2x - 2x + 2 - 2x^2 + 4x - 8]}{(x-1)^3}$$

$$y'' = \frac{-6}{(x-1)^3}$$

Zaključujemo da funkcija nema prevojnih tačaka, jer je $-6 \neq 0$.

Konveksnost i konkavnost ispitujemo :

	$-\infty$	1	∞
-6	—		—
x-1	—		+
y''	+		—
			

Asimptote funkcije (ponašanje funkcije na krajevima oblasti definisanosti)

Vertikalna asimptota

$$\lim_{x \rightarrow 1+\varepsilon, \text{ kad } \varepsilon \rightarrow 0} \frac{x^2 - 4}{x-1} = \frac{1^2 - 4}{1 + \varepsilon - 1} = \frac{-3}{+\varepsilon} = \frac{-3}{+0} = -\infty$$

$$\lim_{x \rightarrow 1-\varepsilon, \text{ kad } \varepsilon \rightarrow 0} \frac{x^2 - 4}{x-1} = \frac{1^2 - 4}{1 - \varepsilon - 1} = \frac{-3}{-\varepsilon} = \frac{-3}{-0} = +\infty$$

horizontalna asimptota:

$\lim_{x \rightarrow \pm\infty} \frac{x^2 - 4}{x - 1} = \pm\infty$ Ovo nam govori da nema horizontalne asimptote pa moramo tražiti kosu!

kosa asimptota:

Kosa asimptota je prava $y = kx + n$

$$k = \lim_{x \rightarrow \pm\infty} \frac{f(x)}{x} \quad \text{i} \quad n = \lim_{x \rightarrow \pm\infty} [f(x) - kx]$$

$$k = \lim_{x \rightarrow \pm\infty} \frac{x^2 - 4}{x - 1} = \lim_{x \rightarrow \pm\infty} \frac{x^2 - 4}{x^2 - x} = 1$$

$$n = \lim_{x \rightarrow \pm\infty} [f(x) - kx] = \lim_{x \rightarrow \pm\infty} \left[\frac{x^2 - 4}{x - 1} - 1x \right] = \lim_{x \rightarrow \pm\infty} \left[\frac{x^2 - 4 - x(x - 1)}{x - 1} \right] = \lim_{x \rightarrow \pm\infty} \left[\frac{x^2 - 4 - x^2 + x}{x - 1} \right] = \lim_{x \rightarrow \pm\infty} \left[\frac{x - 4}{x - 1} \right] = 1$$

Sada k i n zamenimo u formulu: $y = kx + n$ i dobijamo da je $y = x + 1$ kosa asimptota

