

1. Ispitati tok i skicirati grafik funkcije $y = xe^x$

Oblast definisanosti (domen)

Ova funkcija je svuda definisana, jer nema razlomka a funkcija e^x je definisana za svako x iz skupa \mathbb{R} .

Dakle $x \in (-\infty, \infty)$. Ovo nam odmah govori da funkcija **nema vertikalne asimptote!**

Nule funkcije

$$y = 0$$

$$xe^x = 0 \rightarrow x = 0$$

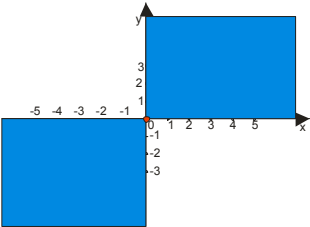
Da vas podsetimo da je $e^x > 0$ uvek.

Znak funkcije

$$y > 0 \rightarrow xe^x > 0 \rightarrow x > 0$$

$$y < 0 \rightarrow xe^x < 0 \rightarrow x < 0$$

Na skici bi to izgledalo:



Funkcija se nalazi samo u plavim oblastima a x - osu seče samo u $x = 0$.

Parnost i neparnost

$$f(-x) = -xe^{-x} = \frac{-x}{e^x} \neq f(x)$$

Ovo nam govori da funkcija nije ni parna ni neparna, odnosno da nije simetrična ni u odnosu na y osu ni u odnosu na koordinatni početak.

Ekstremne vrednosti (max i min) i monotonost (rašćenje i opadanje)

$y = xe^x$ pazi, mora kao izvod proizvoda

$$y' = x'e^x + (e^x)'x$$

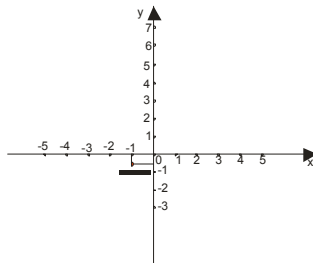
$$y' = 1e^x + e^x x$$

$$y' = e^x(1+x)$$

$$y' = 0 \rightarrow e^x(1+x) \rightarrow 1+x = 0 \rightarrow x = -1$$

$$\text{Za } x = -1 \text{ je } y = (-1)e^{-1} \rightarrow y = -\frac{1}{e}$$

Dakle, tačka ekstrema je $M(-1, -\frac{1}{e})$



Od čega nam zavisi znak prvog izvoda?

Kako je $e^x > 0$ uvek, to znak prvog izvoda zavisi samo od $1+x$

	$-\infty$	-1	∞
$1+x$	-		+
y'	-		+

↘ ↗

Tačka M je onda tačka minimuma.

Prevojne tačke i konveksnost i konkavnost

$$y' = e^x(1+x)$$

$$y'' = (e^x)'(1+x) + (1+x)'e^x$$

$$y'' = e^x(1+x) + e^x$$

$$y'' = e^x(x+2)$$

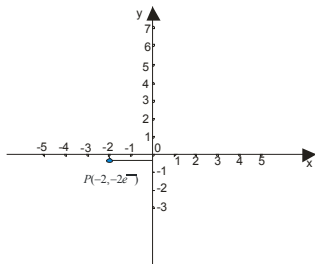
$$y'' = 0$$

$$x+2 = 0 \rightarrow x = -2$$

$$\text{za } x = -2 \text{ je } y = -2e^{-2} = \frac{-2}{e^2}$$



Dakle, postoji prevoj i to je tačka $P(-2, -2e^{-2})$.

Nadjemo približno da je $-2e^{-2} \approx -0,27$ i na skici to bi bilo:



Od čega nam zavisi znak drugog izvoda?

$e^x > 0$ to znak drugog izvoda zavisi samo od $x + 2$

	$-\infty$	-2	∞
$x+2$	$-$		$+$
y''	$-$		$+$
			

Asimptote funkcije (ponašanje funkcije na krajevima oblasti definisanosti)

Kao što smo već rekli, nema vertikalne asimptote!

Horizontalna asimptota

Jedan mali savet: Kod funkcija koje imaju e^x , radite posebno limese kad $x \rightarrow +\infty$ i kad $x \rightarrow -\infty$, jer važi da je

$$e^{\infty} = \infty$$

$$e^{-\infty} = 0$$

Dakle:

$$\lim_{x \rightarrow +\infty} xe^x = \infty \cdot e^{\infty} = \infty \cdot \infty = \infty$$

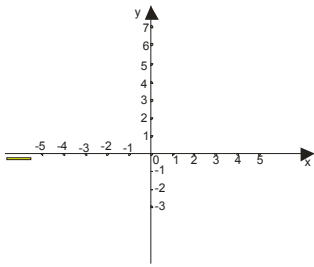
$$\lim_{x \rightarrow -\infty} xe^x = -\infty \cdot e^{-\infty} = -\infty \cdot 0 = ?$$

$$\lim_{x \rightarrow -\infty} xe^x = \lim_{x \rightarrow -\infty} \frac{x}{e^{-x}} = \frac{-\infty}{\infty} = \frac{-\infty}{\infty} = \text{lopital} = \lim_{x \rightarrow -\infty} \frac{1}{-e^{-x}} = \frac{1}{-\infty} = 0_-$$

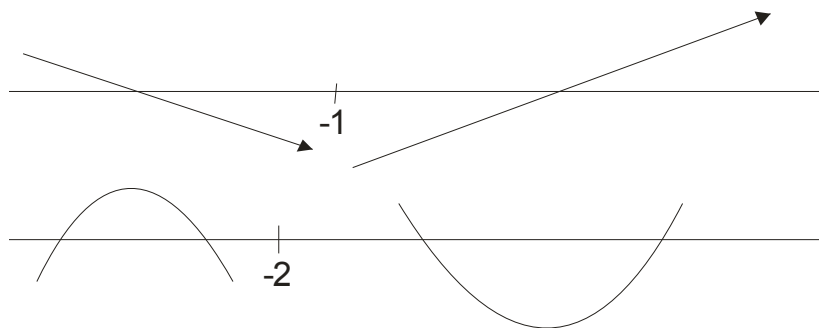
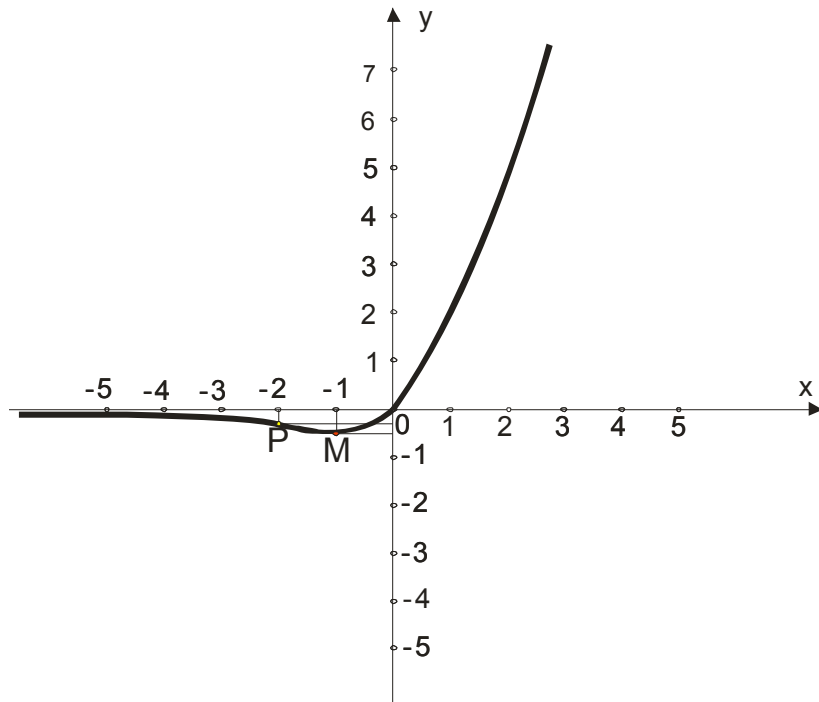
Šta nam ovo govori?

Kad $x \rightarrow +\infty$ ne postoji horizontalna asimptota, ali kad $x \rightarrow -\infty$ imamo horizontalnu asimptotu $y=0$, odnosno,

Kad x teži $-\infty$, funkcija se približava nuli sa donje, negativne strane! To je ovo 0_- u rešenju.



I još da sklopimo konačan grafik:

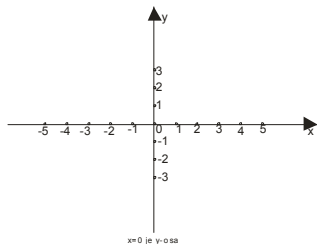


2. Ispitati tok i skicirati grafik funkcije $y = \frac{e^x}{x}$

Oblast definisanosti (domen)

$$x \neq 0 \rightarrow x \in (-\infty, 0) \cup (0, \infty)$$

Ovo znači da funkcija u $x=0$ ima potencijalnu vertikalnu asimptotu.



Nule funkcije

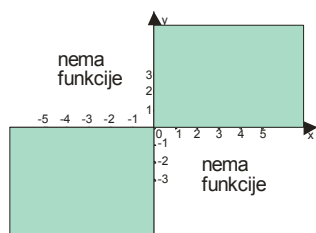
Kako smo već rekli $e^x > 0$, pa funkcija nema nula, odnosno nigde ne seče x osu.

Znak funkcije

Jasno je da znak funkcije zavisi samo od x.

$$y > 0 \rightarrow x > 0$$

$$y < 0 \rightarrow x < 0$$



Parnost i neparnost

$$f(-x) = \frac{e^{-x}}{-x} = -\frac{1}{xe^x}$$

dakle, funkcija nije ni parna ni neparna.

Ekstremne vrednosti (max i min) i monotonost (rašćenje i opadanje)

$$y = \frac{e^x}{x}$$

$$y' = \frac{(e^x)'x - x'e^x}{x^2}$$

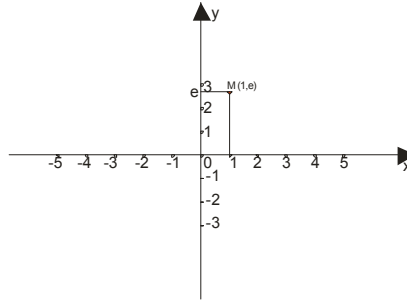
$$y' = \frac{e^x x - 1e^x}{x^2}$$

$$y' = \frac{e^x(x-1)}{x^2}$$

$$y' = 0 \rightarrow e^x(x-1) = 0 \rightarrow x-1 = 0 \rightarrow x = 1$$

Za $x=1$ je $y = \frac{e^1}{1} \rightarrow y = e$

$M(1, e)$ je tačka ekstremne vrednosti



Dalje razmišljamo od čega nam zavisi znak prvog izvoda?

Kako je $x^2 > 0$ i $e^x > 0$ zaključujemo da znak prvog izvoda zavisi samo od $x-1$.

	$-\infty$	1	∞
$x-1$	-		+
y'	-		+

Tačka M je onda tačka minimuma!

Prevojne tačke i konveksnost i konkavnost

$$y' = \frac{e^x(x-1)}{x^2}$$

$$y'' = \frac{[e^x(x-1)]' \cdot x^2 - (x^2)' \cdot e^x(x-1)}{x^4} \quad \text{pazi } e^x(x-1) \text{ mora kao izvod proizvoda}$$

$$y'' = \frac{[(e^x)'(x-1) + (x-1)'e^x] \cdot x^2 - 2x \cdot e^x(x-1)}{x^4}$$

$$y'' = \frac{[e^x(x-1) + 1e^x] \cdot x^2 - 2x \cdot e^x(x-1)}{x^4}$$

$$y'' = \frac{[e^x x - 1e^x + 1e^x] \cdot x^2 - 2x \cdot e^x(x-1)}{x^4} = \frac{e^x x \cdot x^2 - 2x \cdot e^x(x-1)}{x^4} = \frac{e^x \cancel{x} \cdot (x^2 - 2(x-1))}{x^4}$$

$$y'' = \frac{e^x(x^2 - 2x + 2)}{x^3}$$

$$y'' = 0 \rightarrow x^2 - 2x + 2 = 0$$

Ova kvadratna jednačina nema rešenja, jer je kod nje $D < 0$ i $a > 0$.

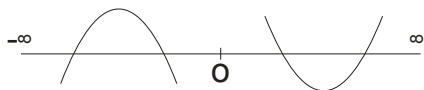
Možemo zaključiti da je zato $x^2 - 2x + 2 > 0$

(pogledaj fajl kvadratna funkcija iz druge godine)

Dakle, funkcija nema prevojnih tačaka!

Od čega nam zavisi znak drugog izvoda?

Pa samo od x^3 , odnosno samo od x .

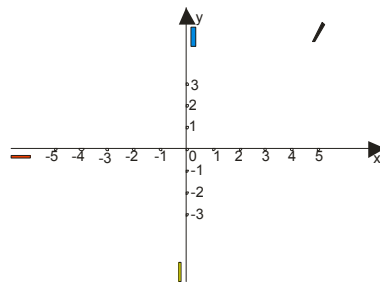


Asimptote funkcije (ponašanje funkcije na krajevima oblasti definisanosti)

Vertikalna asimptota

$$\lim_{x \rightarrow 0+\varepsilon} \frac{e^x}{x} = \frac{e^0}{0+\varepsilon} = \frac{1}{+\varepsilon} = +\infty \quad (\text{plava crta})$$

$$\lim_{x \rightarrow 0-\varepsilon} \frac{e^x}{x} = \frac{e^0}{0-\varepsilon} = \frac{1}{-\varepsilon} = -\infty \quad (\text{žuta crta})$$



Horizontalna asimptota

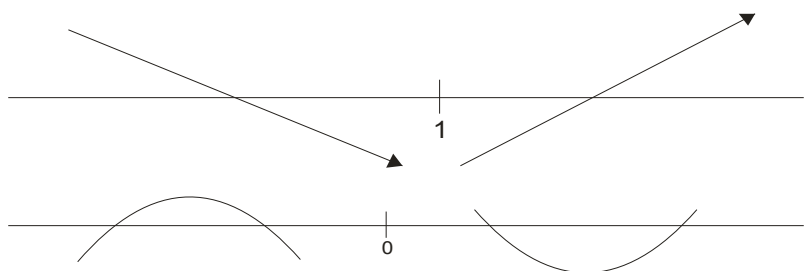
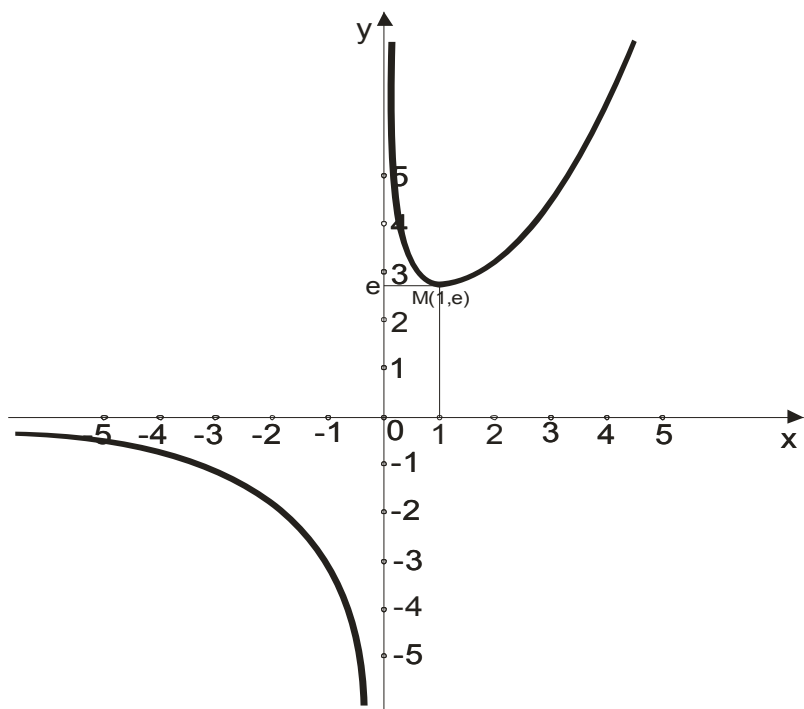
$$\lim_{x \rightarrow +\infty} \frac{e^x}{x} = \frac{e^\infty}{\infty} = \frac{\infty}{\infty} = \text{lopital} = \lim_{x \rightarrow +\infty} \frac{(e^x)'}{x'} = \lim_{x \rightarrow +\infty} \frac{e^x}{1} = e^\infty = \infty \quad (\text{crna crtko})$$

$$\lim_{x \rightarrow -\infty} \frac{e^x}{x} = \frac{e^{-\infty}}{-\infty} = \frac{0}{-\infty} = 0_- \quad (\text{crvena crtko})$$

Dakle, funkcija ima horizontalnu asimptotu $y = 0$ ali samo sa leve strane.

Onda nema kose asimptote!

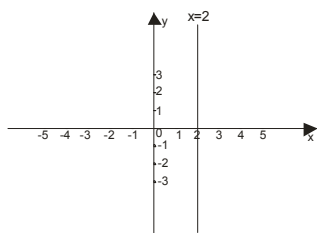
Konačan grafik izgleda:



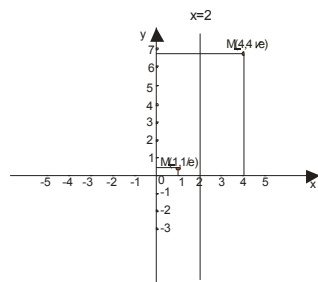
3. Ispitati tok i skicirati grafik funkcije $y = x \cdot e^{\frac{1}{x-2}}$

Oblast definisanosti (domen)

$$x - 2 \neq 0 \rightarrow x \neq 2 \rightarrow x \in (-\infty, 2) \cup (2, \infty)$$



$$y' = 0 \rightarrow x^2 - 5x + 4 = 0 \rightarrow x_{1,2} = \frac{-b \pm \sqrt{b^2 - 4ac}}{2a} \rightarrow x_1 = 1; x_2 = 4$$



Za x=1

$$y = 1 \cdot e^{\frac{1}{1-2}} = e^{-1} = \frac{1}{e} \rightarrow M_1 = \left(1, \frac{1}{e}\right)$$

Za x=4

$$y = 4 \cdot e^{\frac{1}{4-2}} = 4e^{\frac{1}{2}} = 4\sqrt{e} \rightarrow M_2 = (4, 4\sqrt{e})$$

Od čega nam zavisi znak prvog izvoda?

Kako je $e^{\frac{1}{x-2}} > 0$ i $(x-2)^2 > 0$, znak zavisi samo od $x^2 - 5x + 4$

	$-\infty$	1	4	∞
x-1	-	+	+	
x-4	-	-	+	
y'	+	-	+	

Prevojne tačke i konveksnost i konkavnost

$$y' = e^{\frac{1}{x-2}} \cdot \frac{x^2 - 5x + 4}{(x-2)^2}$$

$$y'' = (e^{\frac{1}{x-2}})' \cdot \frac{x^2 - 5x + 4}{(x-2)^2} + (e^{\frac{1}{x-2}}) \cdot \left(\frac{x^2 - 5x + 4}{(x-2)^2}\right)'$$

$$y'' = e^{\frac{1}{x-2}} \cdot \left(-\frac{1}{(x-2)^2}\right) \cdot \frac{x^2 - 5x + 4}{(x-2)^2} + \frac{(x^2 - 5x + 4)' \cdot (x-2)^2 - ((x-2)^2)' \cdot (x^2 - 5x + 4)}{(x-2)^4} \cdot e^{\frac{1}{x-2}}$$

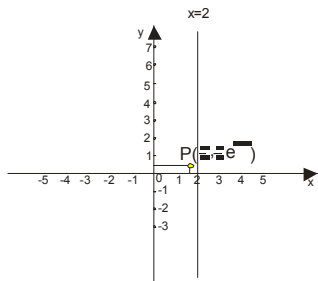
Posle sredjivanja dobijamo:

$$y'' = \frac{5x - 8}{(x-2)^4} \cdot e^{\frac{1}{x-2}}$$

$$y'' = 0 \rightarrow 5x - 8 = 0 \rightarrow x = \frac{8}{5}$$



$$\text{Za } x = \frac{8}{5} \rightarrow y = \frac{8}{5} \cdot e^{\frac{1}{5} - 2} \rightarrow y = \frac{8}{5} \cdot e^{-\frac{9}{5}} \rightarrow y = \frac{8}{5} \cdot e^{-1.8}$$

Tačka prevoja je dakle : $P(\frac{8}{5}, \frac{8}{5} \cdot e^{-1.8})$



Od čega nam zavisi znak drugog izvoda ?

Samo od izraza $5x - 8$

	$-\infty$	$\frac{8}{5}$	∞
$5x - 8$	-	+	
y''	-	+	
			

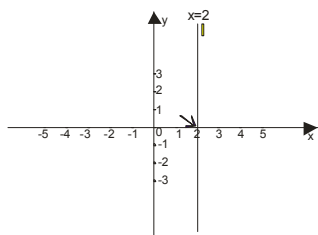
Asimptote funkcije (ponašanje funkcije na krajevima oblasti definisanosti)

Vertikalna asimptota

$$y = x \cdot e^{\frac{1}{x-2}}$$

$$\lim_{x \rightarrow 2+\varepsilon} x e^{\frac{1}{x-2}} = 2 \cdot e^{\frac{1}{2+\varepsilon-2}} = 2 \cdot e^{\frac{1}{\varepsilon}} = 2 \cdot e^{\infty} = \infty \quad (\text{žuta crta})$$

$$\lim_{x \rightarrow 2-\varepsilon} x e^{\frac{1}{x-2}} = 2 \cdot e^{\frac{1}{2-\varepsilon-2}} = 2 \cdot e^{-\frac{1}{\varepsilon}} = 2 \cdot e^{-\infty} = 2 \cdot 0 = 0 \quad (\text{plava strelica})$$



Horizontalna asimptota

$$\lim_{x \rightarrow +\infty} x e^{\frac{1}{x-2}} = \infty \cdot e^{\frac{1}{\infty-2}} = \infty \cdot e^0 = \infty \cdot e^0 = \infty \cdot 1 = \infty$$

$$\lim_{x \rightarrow -\infty} x e^{\frac{1}{x-2}} = -\infty \cdot e^{\frac{1}{-\infty-2}} = -\infty \cdot e^{-\frac{1}{\infty}} = -\infty \cdot e^0 = -\infty \cdot 1 = -\infty$$

Nema horizontalne asimptote, pa moramo ispitati da li postoji kosa asimptota!

Kosa asimptota

$$y = kx + n$$

$$k = \lim_{x \rightarrow \pm\infty} \frac{f(x)}{x} = \lim_{x \rightarrow \pm\infty} \frac{\cancel{x} e^{\frac{1}{x-2}}}{\cancel{x}} = \lim_{x \rightarrow \pm\infty} e^{\frac{1}{x-2}} = e^{\frac{1}{\infty-2}} = e^0 = 1$$

$$n = \lim_{x \rightarrow \pm\infty} [f(x) - kx] = \lim_{x \rightarrow \pm\infty} [x e^{\frac{1}{x-2}} - 1 \cdot x] = \lim_{x \rightarrow \pm\infty} x(e^{\frac{1}{x-2}} - 1) = \infty \cdot 0 = ?$$

$$= \lim_{x \rightarrow \pm\infty} \frac{e^{\frac{1}{x-2}} - 1}{\frac{1}{x}} = \frac{0}{0} = \text{lopital} = \lim_{x \rightarrow \pm\infty} \frac{e^{\frac{1}{x-2}} \cdot \left(-\frac{1}{(x-2)^2}\right)}{-\frac{1}{x^2}} = \lim_{x \rightarrow \pm\infty} e^{\frac{1}{x-2}} \cdot \frac{x^2}{(x-2)^2} = \lim_{x \rightarrow \pm\infty} e^{\frac{1}{x-2}} \cdot \lim_{x \rightarrow \pm\infty} \frac{x^2}{(x-2)^2} = 1 \cdot 1 = 1$$

Dobili smo kosu asimptotu :

$$y = kx + n \quad \text{pa je } y = x + 1$$

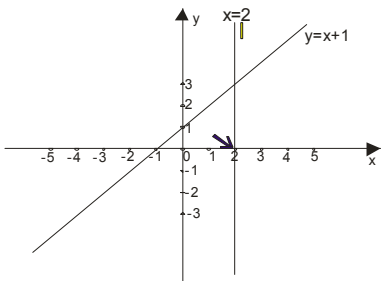
Davidimo kako ona izgleda:

Za x=0

$$y = 0 + 1 = 1$$

Za y=0

$$0 = x + 1 \rightarrow x = -1$$



x	0	-1
y	1	0

I da sklopimo konačan grafik:

