

IZVODI ZADACI (III deo)

Izvodi imaju široku primenu. O upotrebi izvoda u ispitivanju toka funkcije (monotonost, ekstremne vrednosti, prevojne tačke, konveksnost i konkavnost) biće posebno reči u delu o funkcijama.

Ovde ćemo pokazati na nekoliko primera kako rešavati zadatke u kojima se traži da 'nešto' bude maksimalno ili minimalno.

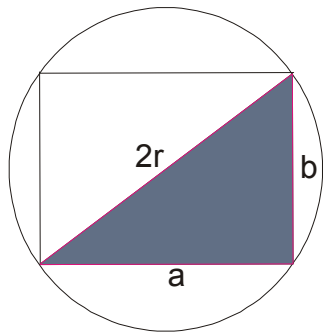
To su teži zadaci, mogu biti i **ispitni** na nekim fakultetima. Zahtevaju odlično poznavanje cele srednjoškolske matematike, moramo najčešće nacrtati sliku i postaviti problem tako što oformimo funkciju sa jednom ili dve nepoznate i od nje nađemo izvod. Kad prvi izvod izjednačimo sa nulom dobijemo traženo rešenje.

ZADACI:

1. U kružnici poluprečnika r upisan je pravougaonik maksimalne površine. Odrediti dimenzije pravougaonika i maksimalnu površinu.

Rešenje:

Najpre moramo skicirati problem i naći odgovarajuću vezu između podataka:



Znamo da se površina pravougaonika računa po formuli $P = ab$

Naš posao je da a ili b izrazimo preko r i to zamenimo u formuli za površinu.

Primenićemo pitagorinu teoremu na ofarbani trougao:

$$(2r)^2 = a^2 + b^2$$

$$4r^2 = a^2 + b^2 \quad \text{odavde je} \quad a^2 = 4r^2 - b^2 \quad \text{to jest} \quad a = \sqrt{4r^2 - b^2}$$

$$P = ab$$

$$P = b\sqrt{4r^2 - b^2} \quad \text{Od ove površine tražimo izvod 'po b', ali pazimo jer r moramo tretirati kao konstantu!}$$

$$P' = b \cdot \sqrt{4r^2 - b^2} + (\sqrt{4r^2 - b^2})' \cdot b \quad \text{Pazi, izvod složene funkcije je ovo!}$$

$$P' = \sqrt{4r^2 - b^2} + \frac{-2b}{2\sqrt{4r^2 - b^2}} b$$

$$P' = \sqrt{4r^2 - b^2} + \frac{-b^2}{\sqrt{4r^2 - b^2}} \quad \text{Nadjemo zajednički...}$$

$$P' = \frac{4r^2 - b^2 - b^2}{\sqrt{4r^2 - b^2}}$$

$$P' = \frac{4r^2 - 2b^2}{\sqrt{4r^2 - b^2}} \quad \text{Sad ovo izjednačimo sa 0. (Samo brojilac, naravno)}$$

$$P' = 0 \quad \text{je za} \quad 4r^2 - 2b^2 = 0 \quad \text{a odavde je} \quad b = r\sqrt{2}, \quad \text{pa to zamenimo u} \quad a = \sqrt{4r^2 - b^2} \quad \text{i dobijamo}$$

$$a = \sqrt{4r^2 - 2r^2}$$

$$a = \sqrt{2r^2}$$

$$a = r\sqrt{2} \quad \text{a kako smo već našli da je} \quad b = r\sqrt{2} \quad \text{to zaključujemo da je traženi pravougaonik ustvari kvadrat čija}$$

je stranica $a = r\sqrt{2}$, pa će tražena površina biti:

$$P = a^2 = (r\sqrt{2})^2 = 2r^2$$

Jedna napomena: Bilo bi nam malo lakše da smo umesto funkcije $P = b\sqrt{4r^2 - b^2}$ posmatrali funkciju

$P = \sqrt{4b^2r^2 - b^4}$ koju smo dobili kad b uvučemo pod koren. Ili još bolje da posmatramo neku funkciju,

nazovimo je recimo $f = 4b^2r^2 - b^4$, koja ima istu maksimalnu vrednost kao i funkcija $\sqrt{4b^2r^2 - b^4}$.

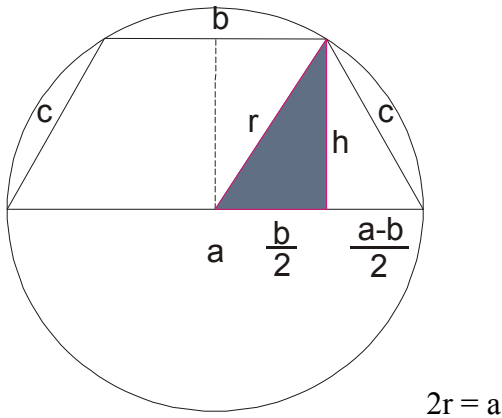
Još jedna napomena: Kako da znamo da je dobijeno rešenje baš maksimum, odnosno minimum?

Trebalo bi naći drugi izvod i to potvrditi jer ako je $f'' > 0$ u nekoj tački, onda je ta tačka minimum a ako je

$f'' < 0$ u nekoj tački, onda je ta tačka maksimum. Ovo ispitujte ako traži Vaš profesor!

2. U polukružnici poluprečnika r upisan je trapez, čija je veća osnovica prečnik kružnice. Odrediti visinu i manju osnovicu trapeza, tako da mu površina bude maksimalna.

Rešenje:



Površina trapeza se kao što znamo računa po formuli : $P = \frac{a+b}{2}h$

Na osenčenom trouglu ćemo primeniti pitagorinu teoremu:

$$h^2 = r^2 - \left(\frac{b}{2}\right)^2 \quad \text{pa je} \quad h = \sqrt{r^2 - \frac{b^2}{4}}$$

$$P = \frac{a+b}{2}h = \frac{2r+b}{2} \sqrt{r^2 - \frac{b^2}{4}} \quad \text{malo prisredimo i dobijamo}$$

$$P = \frac{(2r+b)\sqrt{4r^2 - b^2}}{4} \quad \text{možemo odavde tražiti izvod ili je možda pametnije da prvo sve uvučemo pod koren...}$$

$$P = \frac{\sqrt{(2r+b)^2(4r^2 - b^2)}}{4}$$

Sada možemo posmatrati samo funkciju $(2r+b)^2(4r^2 - b^2)$ koja ima istu maksimalnu vrednost kao i P.

Dakle, obeležimo sa (uzmite neko slovo) $G = (2r+b)^2(4r^2 - b^2)$ i nađimo njen izvod «po b»

$$G = (2r+b)^2(4r^2 - b^2)$$

$$G' = 2(2r+b)(4r^2 - b^2) + (-2b)(2r+b)^2 \quad \text{izvučemo zajednički...}$$

$$G' = (2r+b)[2(4r^2 - b^2) - 2b(2r+b)]$$

$$G' = (2r+b)[8r^2 - 2b^2 - 4rb - 2b^2]$$

$$G' = (2r+b)[8r^2 - 4rb - 4b^2]$$

Ovo sada izjednačavamo sa 0.

$$G' = 0$$

$$(2r + b)[8r^2 - 4rb - 4b^2] = 0 \text{ odavde je } 2r + b = 0 \text{ ili } 8r^2 - 4rb - 4b^2 = 0$$

Iz $2r + b = 0$ dobijamo $b = -2r$ što je očigledno **nemoguće**, pa dakle mora biti:

$$8r^2 - 4rb - 4b^2 = 0 \quad \text{podelimo sve sa 4}$$

$2r^2 - rb - b^2 = 0$ napravimo proizvod ... (Ima objašnjeno u delu I godina, na sajtu), a može da se radi i kao kvadratna...

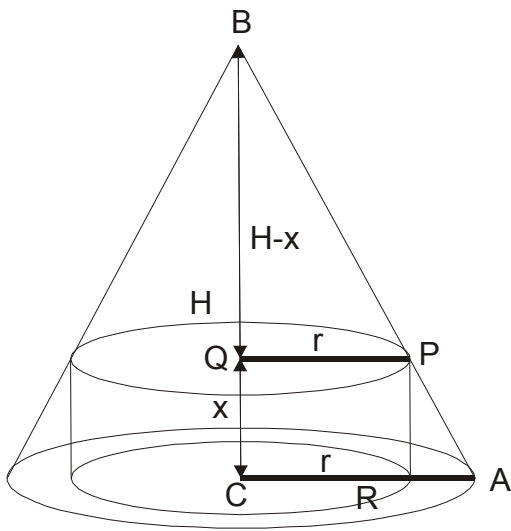
$$(r - b)(b + 2r) = 0 \quad \text{Odavde je očigledno } r = b$$

$$h = \sqrt{r^2 - \frac{b^2}{4}} \text{ pa kad zamenimo } r = b \text{ dobijamo } h = \frac{r\sqrt{3}}{2}$$

$$P = \frac{a+b}{2} h = \frac{2r+r}{2} \frac{r\sqrt{3}}{2} = \frac{3r}{2} \frac{r\sqrt{3}}{2} = \frac{3r^2\sqrt{3}}{4}$$

3. Odrediti dimenzije pravog kružnog valjka, maksimalne zapremine, koji se može upisati u pravu kružnu kupu poluprečnika R i visine H.

Rešenje:



Naravno, prvo nacrtamo sliku...

Uočimo trouglove BCA i BQP. Oni su očigledno slični, pa su odgovarajuće stranice proporcionalne:

CA : QP = BC : BQ to jest

R : r = H : (H-x) gde je sa x obeležena **visina valjka** (vidi sliku)

$$R(H - x) = rH$$

$$RH - Rx = rH$$

$$RH - rH = Rx \quad \text{i odavde je} \quad x = \frac{(R-r)H}{R}$$

Znamo da se zapremina valjka računa po formuli : $V = r^2 \pi H_v$ to jest ,pošto smo visinu obeležili sa x

$$V = r^2 \pi x$$

$$V = r^2 \pi \frac{(R-r)H}{R} \quad \text{sredimo ovo i nadjimo izvod po r}$$

$$V = \frac{(r^2 R - r^3)H\pi}{R} \quad \text{Pazi , kad radimo izvod po r , sve ostale nepoznate su "kao" konstante!}$$

$$V' = \frac{(2rR - 3r^2)H\pi}{R} \quad \text{sada ovo izjednačimo sa 0 . Dakle } V' = 0 \text{ za } \frac{(2rR - 3r^2)H\pi}{R} = 0 \text{ to jest}$$

$$2rR - 3r^2 = 0$$

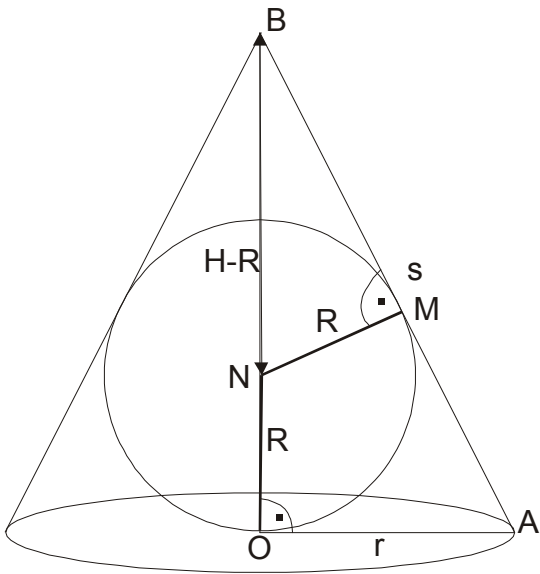
$$r(2R - 3r) = 0 \quad \text{pa je odavde } r = \frac{2R}{3} \text{ , vratimo ovo u } x = \frac{(R-r)H}{R} \text{ i dobijamo } x = \frac{H}{3}$$

$$V_{\max} = \left(\frac{2R}{3}\right)^2 \pi \frac{H}{3} = \frac{4R^2 H\pi}{27}$$

4. Među svim pravim kupama opisanim oko lopte poluprečnika R , odrediti onu čija je zapremina minimalna.

Rešenje:

Kao i obično, prvo moramo nacrtati sliku:



Uočimo trouglove **OAB** i **MNB**. Oni su slični jer imaju po dva ista ugla. Iz njihove sličnosti sledi proporcionalnost odgovarajućih stranica.

$$\mathbf{OA : MN = AB : BN} \quad \text{Znamo da je } s^2 = r^2 + H^2 \text{ to jest } s = \sqrt{r^2 + H^2}$$

$$r : R = \sqrt{r^2 + H^2} : (H - R)$$

$$r(H - R) = R \sqrt{r^2 + H^2} \quad \text{kvadriramo...}$$

$$r^2(H - R)^2 = R^2 (r^2 + H^2) \quad \text{sredimo i izrazimo H...}$$

$$H = \frac{2r^2 R}{r^2 - R^2}$$

Zapremina kupe se računa po formuli : $V = \frac{1}{3} r^2 \pi H$ Ovde zamenimo H što smo izrazili...

$$V = \frac{1}{3} r^2 \pi H$$

$$V = \frac{1}{3} r^2 \pi \frac{2r^2 R}{r^2 - R^2} \quad \text{malo prisredimo...}$$

$$V = \frac{2\pi}{3} \frac{r^4 R}{r^2 - R^2} \quad \text{odavde tražimo izvod po } r \text{ i pazimo, jer je } R \text{ kao konstanta i u pitanju je izvod količnika!}$$

$$V' = \frac{2\pi}{3} \frac{4r^3 R(r^2 - R^2) - 2r(r^4 R)}{(r^2 - R^2)^2}$$

$$V' = \frac{2\pi}{3} \frac{4r^5 R - 4r^3 R^3 - 2r^5 R}{(r^2 - R^2)^2}$$

$$V' = \frac{2\pi}{3} \frac{2r^5 R - 4r^3 R^3}{(r^2 - R^2)^2} \quad \text{naravno } V' = 0$$

$$2r^5 R - 4r^3 R^3 = 0 \quad \text{pa je odavde}$$

$$2r^3 R (r^2 - 2R^2) = 0 \quad \text{to jest } r^2 - 2R^2 = 0 \quad \text{pa je } r = \sqrt{2} R, \text{ vratimo se da nađemo } H$$

$$H = \frac{2r^2 R}{r^2 - R^2} = 4R, \text{ dakle } H = 4R$$

$$V = \frac{1}{3} r^2 \pi H \quad \text{kad zamenimo } r \text{ i } H \text{ dobijamo:}$$

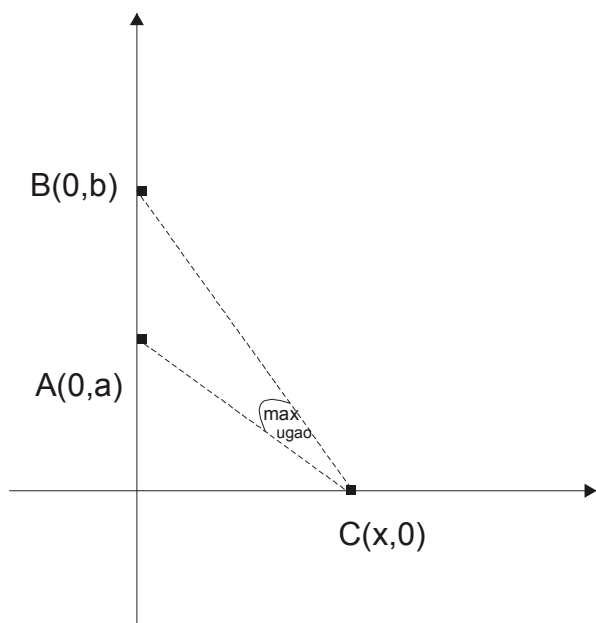
$$V_{\min} = \frac{1}{3} (\sqrt{2} R)^2 \pi 4R$$

$$V_{\min} = \frac{8\pi}{3} R^3$$

5. Date su tačke $A(0,a)$ i $B(0,b)$, gde je $0 < a < b$. Odredi koordinatu x tačke $C(x,0)$ gde je $x > 0$ tako da se duž AB vidi pod maksimalnim uglom iz tačke C .

Rešenje:

I ovde ćemo najpre nacrtati sliku i postaviti problem:



Ideja je da koristimo formulu za ugao između dve prave $\operatorname{tg} \alpha = \frac{k_2 - k_1}{1 + k_1 k_2}$.

Naći ćemo koeficijente pravca za pravu AC i za pravu BC.

Iskoristićemo formulu $k = \frac{y_2 - y_1}{x_2 - x_1}$.

Za pravu AC je $k_1 = \frac{y_2 - y_1}{x_2 - x_1} = \frac{0 - a}{x - 0} = -\frac{a}{x}$

Za pravu BC je $k_2 = \frac{y_2 - y_1}{x_2 - x_1} = \frac{0 - b}{x - 0} = -\frac{b}{x}$

Sada je $tg\alpha = \frac{k_2 - k_1}{1 + k_1 k_2} = \frac{-\frac{b}{x} + \frac{a}{x}}{1 + \frac{a}{x} \frac{b}{x}} = \text{sredimo} = \frac{x(a-b)}{x^2 + ab}$ znači da je :

$tg\alpha = \frac{x(a-b)}{x^2 + ab}$ odnosno $\alpha = \text{arctg} \frac{x(a-b)}{x^2 + ab}$ Sad od ovog tražimo izvod:

$$\alpha = \text{arctg} \frac{x(a-b)}{x^2 + ab}$$

$$\alpha' = \frac{1}{1 + \left(\frac{x(a-b)}{x^2 + ab}\right)^2} \left(\frac{x(a-b)}{x^2 + ab}\right)'$$

$$\alpha' = \frac{1}{(x^2 + ab)^2 + x^2(a-b)^2} (a-b) \frac{x^2 + ab - 2x^2}{(x^2 + ab)^2} \text{ pokratimo i spakujemo}$$

$$\alpha' = \frac{(a-b)(ab - x^2)}{(x^2 + ab)^2 + x^2(a-b)^2} \text{ Sad ovo izjednačimo sa 0, naravno samo brojilac!}$$

$ab - x^2 = 0$ pa je $x^2 = ab$ odnosno traženo rešenje je $x = \sqrt{ab}$

Dakle koordinata x je geometrijska sredina koordinata a i b !

ZA RADOZNALE: POGLEDAJ PROBLEM "SLIKA NA ZIDU" I PRIMENI OVO REŠENJE!

