

Hiperbola – razni zadaci

Primer 1.

Napisati jednačinu hiperbole ako joj pripadaju tačke $A(4, \sqrt{5})$ i $B(-4\sqrt{3}, 5)$.

Rešenje:

Koordinate datih tačaka menjamo u jednačinu hiperbole i rešavamo sistem.

$$\underline{A(4, \sqrt{5})}$$

$$b^2x^2 - a^2y^2 = a^2b^2$$

$$b^24^2 - a^2\sqrt{5}^2 = a^2b^2$$

$$16b^2 - 5a^2 = a^2b^2$$

$$\underline{B(-4\sqrt{3}, 5)}$$

$$b^2x^2 - a^2y^2 = a^2b^2$$

$$b^2(-4\sqrt{3})^2 - a^25^2 = a^2b^2$$

$$48b^2 - 25a^2 = a^2b^2$$

$$16b^2 - 5a^2 = 48b^2 - 25a^2$$

$$25a^2 - 5a^2 = 48b^2 - 16b^2$$

$$20a^2 = 32b^2 \rightarrow a^2 = \frac{8b^2}{5} \text{ ovo menjamo u } 16b^2 - 5a^2 = a^2b^2$$

$$16b^2 - 5\frac{8b^2}{5} = \frac{8b^2}{5}b^2 \rightarrow \cancel{8b^2} = \frac{\cancel{8b^2}b^2}{5} \rightarrow b^2 = 5 \rightarrow a^2 = 8$$

Tražena jednačina hiperbole je:

$$\frac{x^2}{a^2} - \frac{y^2}{b^2} = 1 \rightarrow \frac{x^2}{8} - \frac{y^2}{5} = 1$$

Primer 2.

Na hiperboli $x^2 - y^2 = 4$ odrediti tačku čiji su radijus vektori normalni.

Rešenje:

Nađimo najpre koordinate žiža:

$$x^2 - y^2 = 4 \rightarrow \frac{x^2}{4} - \frac{y^2}{4} = 1 \rightarrow a^2 = 4 \wedge b^2 = 4$$

$$c^2 = a^2 + b^2 \rightarrow c^2 = 4 + 4 \rightarrow c^2 = 8 \rightarrow c = \pm\sqrt{8}$$

Uzmimo proizvoljnu tačku (x_0, y_0) koja je na hiperboli.

Radjus vektori spajaju tu tačku i žiže $(-\sqrt{8}, 0)$ i $(\sqrt{8}, 0)$.

$$\vec{r}_1 = (x_0 - \sqrt{8}, y_0) \wedge \vec{r}_2 = (x_0 + \sqrt{8}, y_0)$$

U zadatku kaže da su radijus vektori normalni a znamo da je onda njihov skalarni proizvod jednak 0.

$$\vec{r}_1 \cdot \vec{r}_2 = 0$$

$$(x_0 - \sqrt{8}, y_0)(x_0 + \sqrt{8}, y_0) = 0$$

$$(x_0 - \sqrt{8})(x_0 + \sqrt{8}) + y_0^2 = 0$$

$$x_0^2 - \sqrt{8}^2 + y_0^2 = 0 \rightarrow \underline{x_0^2 + y_0^2 = 8}$$

Tačka (x_0, y_0) pripada hiperboli pa zadovoljava njenu jednačinu: $x_0^2 - y_0^2 = 4$

Sad imamo sistem jednačina:

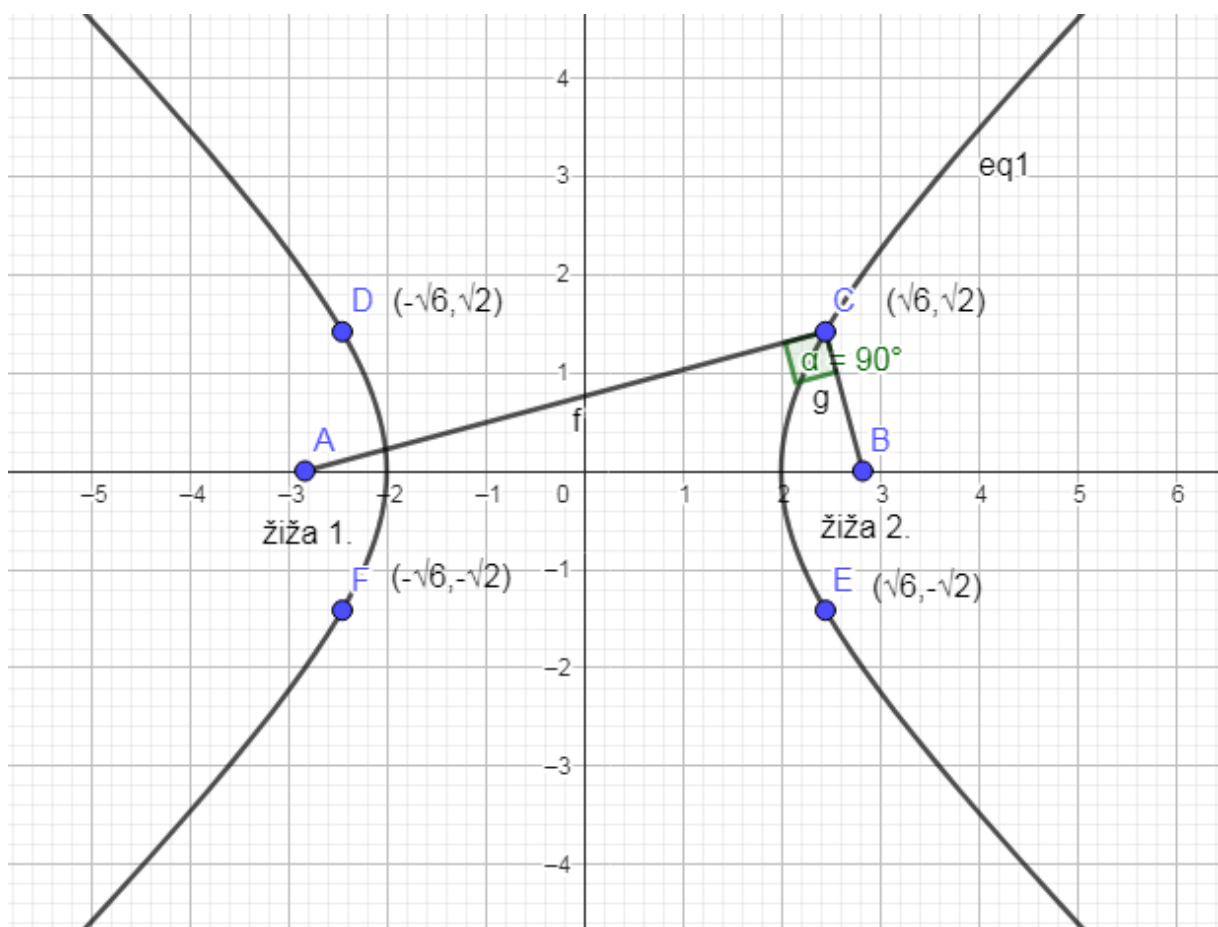
$$x_0^2 - y_0^2 = 4$$

$$\underline{x_0^2 + y_0^2 = 8}$$

$$2x_0^2 = 12 \rightarrow x_0^2 = 6 \rightarrow x_0 = \pm\sqrt{6}$$

$$\text{Onda je } y_0^2 = 2 \rightarrow y_0 = \pm\sqrt{2}$$

Tražene tačke su $(\sqrt{6}, \sqrt{2}), (\sqrt{6}, -\sqrt{2}), (-\sqrt{6}, \sqrt{2})$ i $(-\sqrt{6}, -\sqrt{2})$.



Primer 3.

Iz žiže hiperbole $9x^2 - 16y^2 = 144$ konstruisana je normala na asimptotu. Izračunati površinu trougla ograničenu ovom normalom, asimptotom i apscisnom osom.

Rešenje:

Nađimo najpre žiže i asimptote pa ćemo postaviti problem i nacrtati sliku:

$$9x^2 - 16y^2 = 144$$

$$\frac{9x^2}{144} - \frac{16y^2}{144} = 1$$

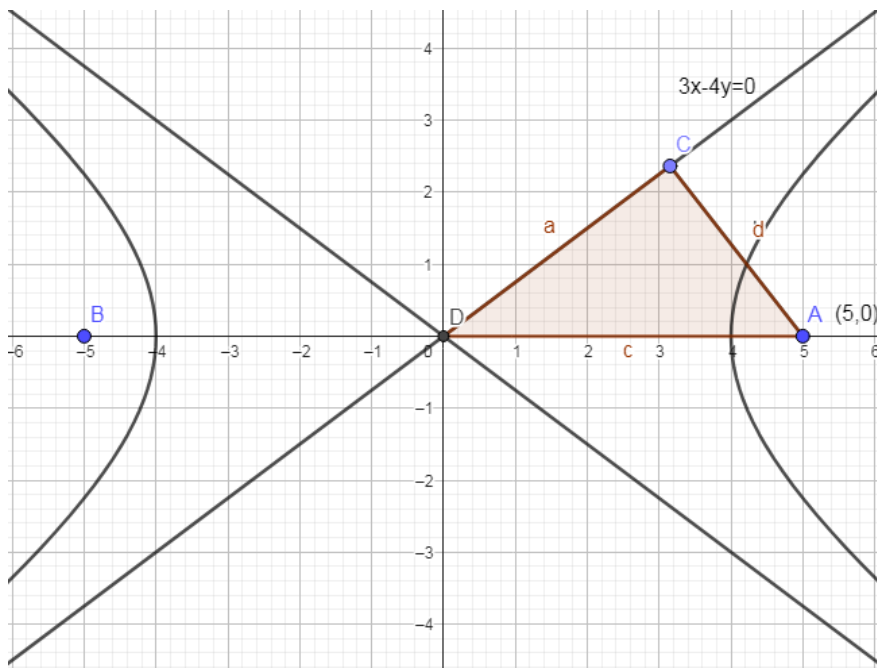
$$\frac{x^2}{16} - \frac{y^2}{9} = 1 \rightarrow a^2 = 16 \wedge b^2 = 9 \rightarrow a = 4 \wedge b = 3$$

$$c^2 = a^2 + b^2 \rightarrow c^2 = 16 + 9 \rightarrow c^2 = 25 \rightarrow c = \pm 5$$

$F_1(-5,0), F_2(5,0)$ su žiže

$$y = \pm \frac{b}{a}x \rightarrow y = \frac{3}{4}x \wedge y = -\frac{3}{4}x \text{ su asimptote}$$

$$y = \frac{3}{4}x \rightarrow 3x - 4y = 0$$



Dužinu normale ćemo naći kao rastojanje tačke $(5,0)$ od prave $3x-4y=0$

$$d = \frac{|ax_0 + by_0 + c|}{\sqrt{a^2 + b^2}} \rightarrow d = \frac{3 \cdot 5 - 4 \cdot 0}{\sqrt{3^2 + 4^2}} = \frac{15}{5} = 3$$

Imamo dužinu hipotenule $c=5$ i dužinu katete $b=3$, primenjujemo Pitagorinu teoremu:

$$a^2 + b^2 = c^2$$

$$a^2 + 3^2 = 5^2 \rightarrow a^2 = 16 \rightarrow a = 4$$

I još da nađemo površinu pravouglog trougla:

$$P = \frac{ab}{2} \rightarrow P = \frac{3 \cdot 4}{2} \rightarrow P = 6$$

Primer 4.

Odrediti jednačine tangenti hiperbole $16x^2 - 9y^2 = 144$ koja je paralelna sa pravom $4x - y + 5 = 0$.

Rešenje:

Neka je tražena jednačina tangente $y = kx + n$, $k = ?$, $n = ?$

Spakujemo hiperbolu:

$$16x^2 - 9y^2 = 144$$

$$\frac{16x^2}{144} - \frac{9y^2}{144} = 1$$

$$\frac{x^2}{9} - \frac{y^2}{16} = 1 \rightarrow a^2 = 9 \wedge b^2 = 16$$

Pravu prebacimo u eksplicitni oblik:

$$4x - y + 5 = 0$$

$$y = 4x + 5 \text{ pa je } k = 4$$

Uslov paralelnosti nam kaže da je i naše $k=4$.

Idemo na uslov dodira da nađemo n .

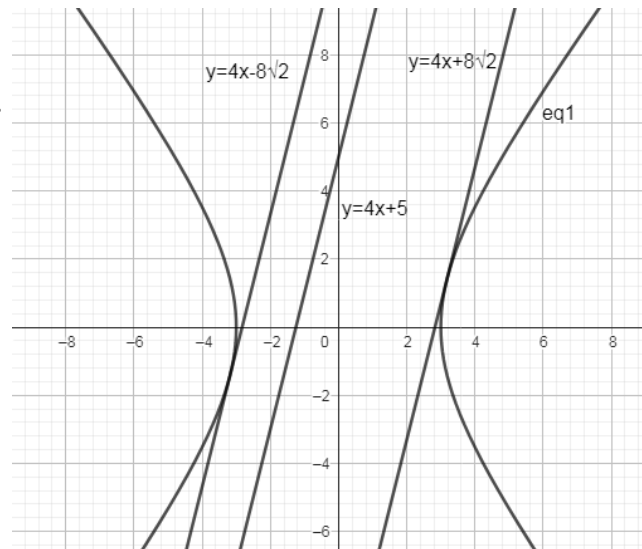
$$a^2k^2 - b^2 = n^2$$

$$9 \cdot 4^2 - 16 = n^2$$

$$n^2 = 128 \rightarrow n = \pm \sqrt{64 \cdot 2} = \pm 8\sqrt{2}$$

$$t_1 : y = 4x + 8\sqrt{2}$$

$$t_2 : y = 4x - 8\sqrt{2}$$



Primer 5.

Data je jednačina hiperbole $4x^2 - 9y^2 - 8x + 36y - 68 = 0$.

Odrediti koordinate središta, poluose i žiže hiperbole a zatim je konstruisati.

Rešenje:

Vidimo da ova hiperbola nije centralna, središte joj nije u koordinatnom početku (0,0).

Ova hiperbola je oblika $\frac{(x-p)^2}{a^2} - \frac{(y-q)^2}{b^2} = 1$ gde je C(p,q) centar hiperbole.

Njene žiže su $F_1(p-c, q) \wedge F_2(p+c, q)$

a asimptote se traže po formuli $y - q = \pm \frac{b}{a}(x - p)$.

Pakujemo hiperbolu:

$$4x^2 - 9y^2 - 8x + 36y - 68 = 0$$

$$4x^2 - 8x - 9y^2 + 36y - 68 = 0$$

$$4(x^2 - 2x) - 9(y^2 - 4y) = 68$$

$$4(x^2 - 2x + 1 - 1) - 9(y^2 - 4y + 4 - 4) = 68$$

$$4(x^2 - 2x + 1) - 4 - 9(y^2 - 4y + 4) + 36 = 68$$

$$4(x-1)^2 - 9(y-2)^2 = 68 - 32$$

$$4(x-1)^2 - 9(y-2)^2 = 36 \dots / : 36$$

$$\frac{(x-1)^2}{9} - \frac{(y-2)^2}{4} = 1 \rightarrow a^2 = 9, b^2 = 4, p = 1, q = 2 \rightarrow C(1, 2)$$

Tražimo koordinate žiža:

$$c^2 = a^2 + b^2 \rightarrow c^2 = 9 + 4 \rightarrow c^2 = 13 \rightarrow c = \pm\sqrt{13}$$

$$F_1(p-c, q) \wedge F_2(p+c, q) \rightarrow F_1(1-\sqrt{13}, 2) \wedge F_2(1+\sqrt{13}, 2) \text{ su žiže}$$

Tražimo jednačine asimptota:

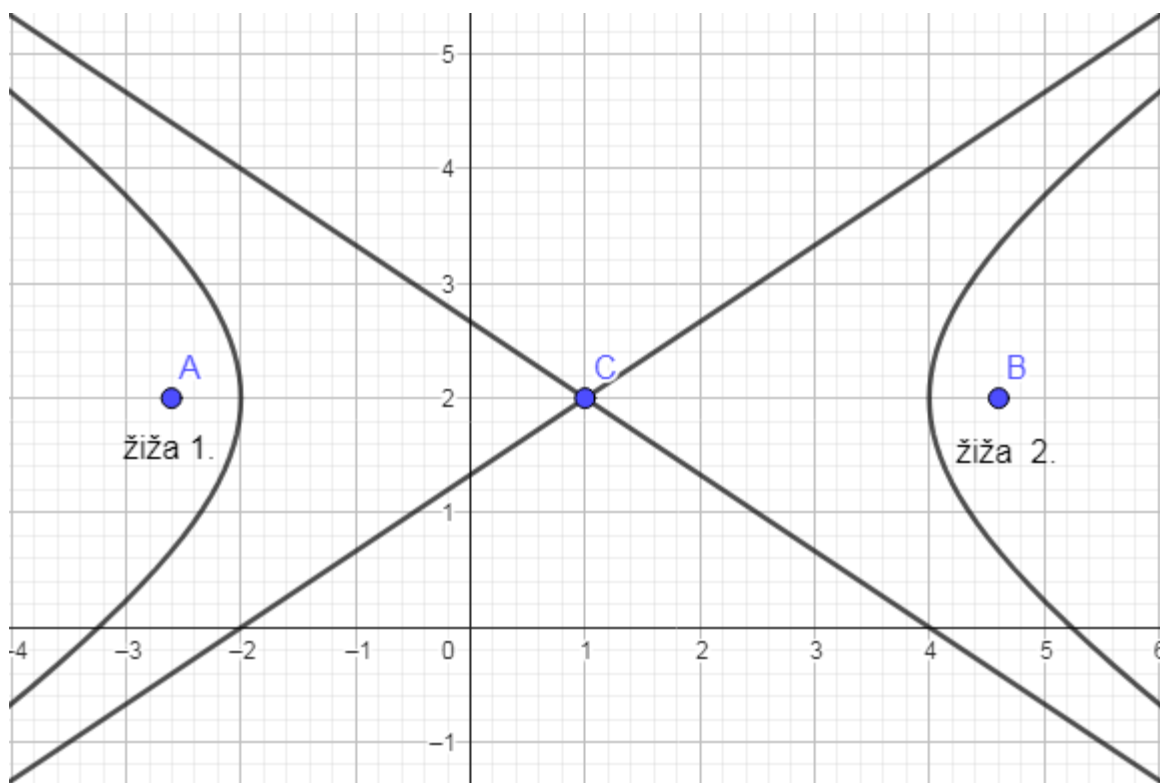
$$y - q = \pm \frac{b}{a}(x - p)$$

$$y - 2 = \pm \frac{2}{3}(x - 1)$$

$$y = \frac{2}{3}(x - 1) + 2 \wedge y = -\frac{2}{3}(x - 1) + 2$$

$$y = \frac{2}{3}x - \frac{2}{3} + 2 \wedge y = -\frac{2}{3}x + \frac{2}{3} + 2$$

$$y = \frac{2}{3}x + \frac{4}{3} \wedge y = -\frac{2}{3}x + \frac{8}{3} \text{ su asimptote}$$



www.matematiranje.in.rs