

## PODUDARNOST TROUGLOVA

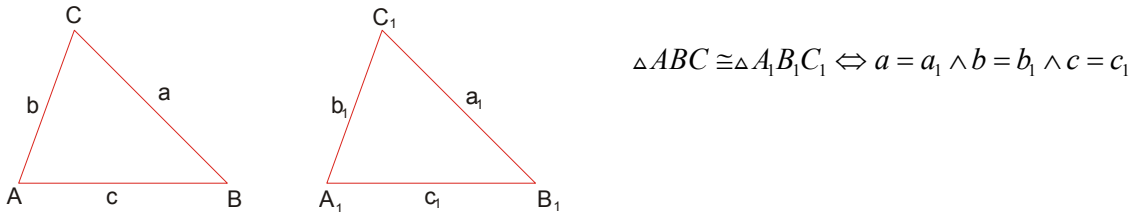
Po definiciji, dva trougla  $\triangle ABC$  i  $\triangle A_1B_1C_1$  su podudarni ako postoji izometrija koja  $\triangle ABC$  prevodi u  $\triangle A_1B_1C_1$ . Obično se podudarnost označava sa  $\cong$ .

Znači, ako su dva trougla podudarna onda je:  $\triangle ABC \cong \triangle A_1B_1C_1 \rightarrow a = a_1, b = b_1, c = c_1, \alpha = \alpha_1, \beta = \beta_1, \gamma = \gamma_1$

Postoje 4 teoreme ( stava ) o podudarnosti trouglova:

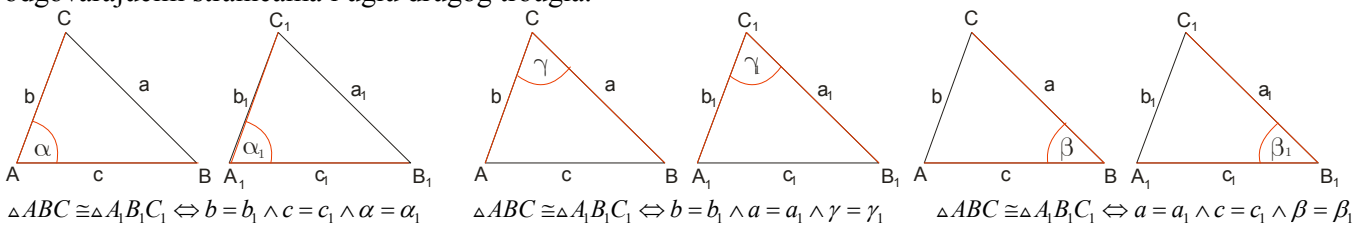
### Stav SSS

Dva trougla su podudarna ako i samo ako su stranice jednog trougla jednake odgovarajućim stranicama drugog trougla.



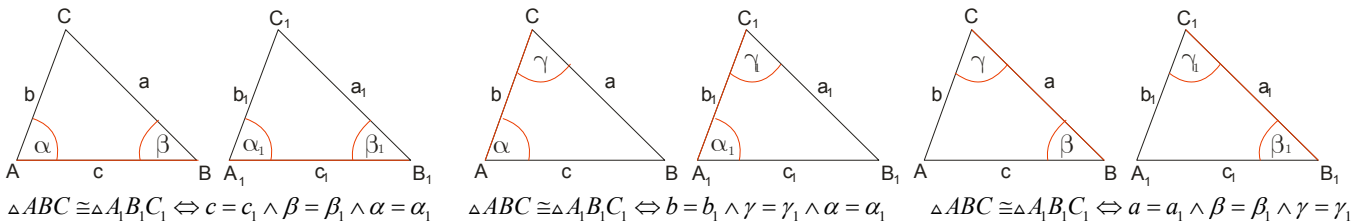
### Stav SAS

Dva trougla su podudarna ako i samo ako su dve stranice jednog trougla i ugao zahvaćen njima jednaki odgovarajućim stranicama i uglu drugog trougla.



### Stav ASA

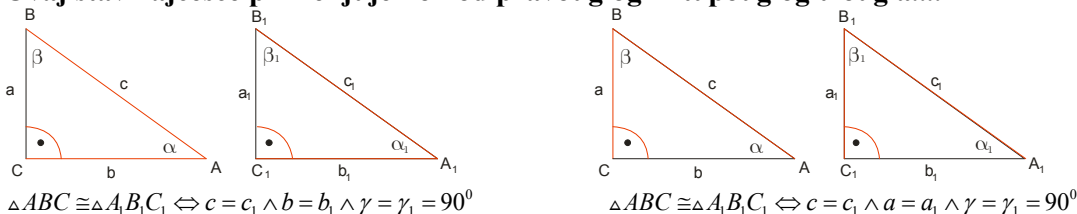
Dva trougla su podudarna ako i samo ako imaju jednaku po jednu stranicu i oba odgovarajuća ugla nalegla na tu stranicu.



### Stav SSA

Dva trougla su podudarna ako i samo ako su dve stranice i ugao naspram jedne od njih u jednom trouglu jednaki sa dve odgovarajuće stranice i uglom u drugom trouglu, a uglovi naspram druge stranice u oba trougla su iste vrste ( oba oštra ili oba prava ili oba tupa )

Ovaj stav najčešće primenjujemo kod pravouglog ili tupouglog trougla....



**Primer 1.**

**Dokazati da su trouglovi  $\triangle ABC$  i  $\triangle A_1B_1C_1$  podudarni kada su im jednaki sledeći odgovarajući elementi:**

a)  $a = a_1, b = b_1, h_b = h_{b_1}$

b)  $a = a_1, c = c_1, t_c = t_{c_1}$

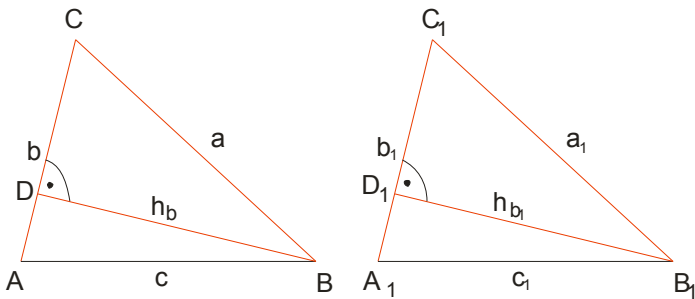
c)  $c = c_1, t_c = t_{c_1}, h_c = h_{c_1}$

d)  $\gamma = \gamma_1, b = b_1, s_\gamma = s_{\gamma_1}$

**Rešenje:**

a)  $a = a_1, b = b_1, h_b = h_{b_1}$

**Nacramo najpre sliku i na njoj drugom bojom ( kod nas crvenom) obeležimo date jednake elemente!**



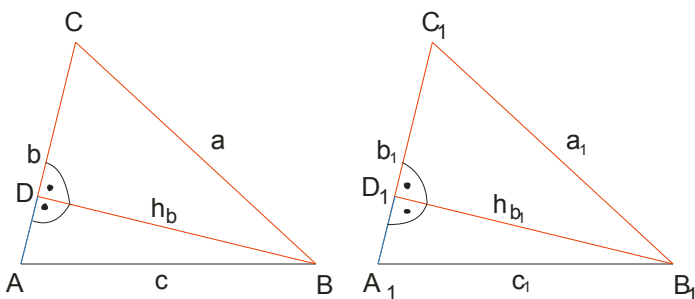
Uvek prvo dokazujemo za delove koji se “ više šarene” !

Dakle prvo dokazujemo da je  $\triangle DBC \cong \triangle D_1B_1C_1$

**Moramo da nadjemo tri elementa koja su jednaka I da kažemo koji je stav u pitanju!**

$$\left. \begin{array}{l} a = a_1 \\ h_b = h_{b_1} \\ \sphericalangle D = \sphericalangle D_1 = 90^\circ \end{array} \right\} \xrightarrow{SSU} \triangle DBC \cong \triangle D_1B_1C_1$$

**E sad , odavde moramo izvesti neki zaključak koji će nam pomoći da dokažemo da je  $\triangle DBA \cong \triangle D_1B_1A_1$**



Ovde je taj zaključak da je  $AD = A_1D_1$  jer je  $AC = A_1C_1$  dato u zadatku a mi smo dokazali da je  $DC = D_1C_1$

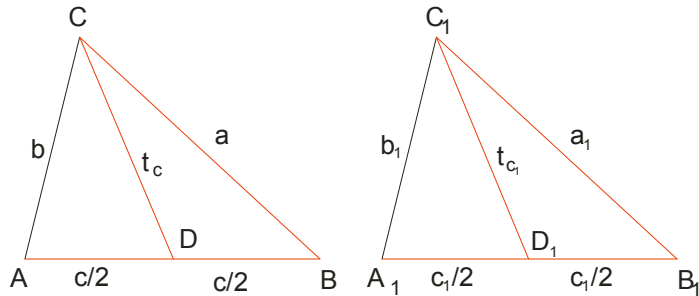
Sad možemo dokazati da je  $\triangle DBA \cong \triangle D_1B_1A_1$

$$\left. \begin{array}{l} AD = A_1D_1 \\ h_b = h_{b_1} \\ \sphericalangle D = \sphericalangle D_1 = 90^\circ \end{array} \right\} \xrightarrow{SUS} \triangle DBA \cong \triangle D_1B_1A_1$$

Iz svega sledi da je  $\triangle ABC \cong \triangle A_1B_1C_1$

b)  $a = a_1, c = c_1, t_c = t_{c_1}$

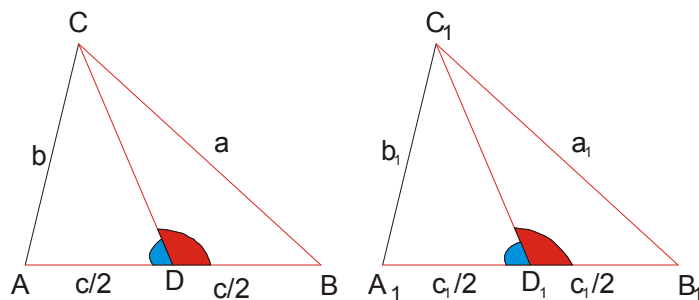
Dakle, nacrtamo sliku i ofarbamo zadate jednake elemente:



Sad krećemo od desnih trouglova:

$$\left. \begin{array}{l} a = a_1 \\ t_c = t_{c_1} \\ \frac{c}{2} = \frac{c_1}{2} \end{array} \right\} \xrightarrow{SSS} \triangle DBC \cong \triangle D_1B_1C_1$$

Da izvučemo zaključak koji nam treba za drugi deo dokaza:



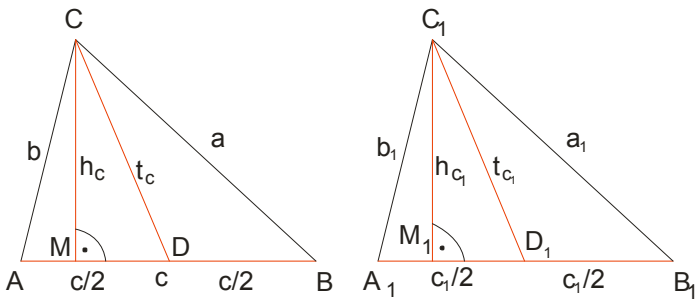
$$\sphericalangle BDC = \sphericalangle B_1D_1C_1 \rightarrow \sphericalangle ADC = \sphericalangle A_1D_1C_1$$

(Dopuna do opruženog ugla)

$$\left. \begin{array}{l} \sphericalangle ADC = \sphericalangle A_1D_1C_1 \\ t_c = t_{c_1} \\ \frac{c}{2} = \frac{c_1}{2} \end{array} \right\} \xrightarrow{SUS} \triangle DAC \cong \triangle D_1A_1C_1$$

Iz svega sledi da je  $\triangle ABC \cong \triangle A_1B_1C_1$

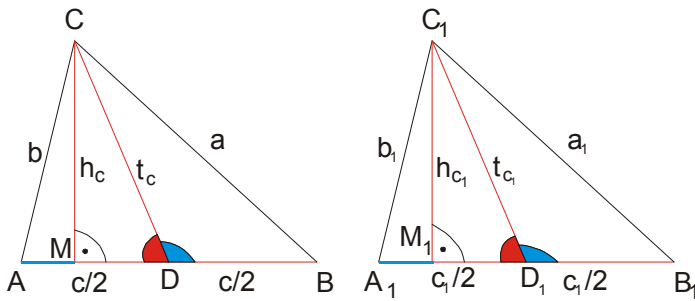
c)  $c = c_1, t_c = t_{c_1}, h_c = h_{c_1}$



Pazite, ovde dokaz moramo izvesti za sva tri trougla. Krećemo od srednjeg....

$$\left. \begin{array}{l} t_c = t_{c_1} \\ h_c = h_{c_1} \\ \sphericalangle M = \sphericalangle M_1 = 90^\circ \end{array} \right\} \xrightarrow{SSU} \triangle DMC \cong \triangle D_1M_1C_1$$

Ovde moramo izvući dva zaključka:



$$\sphericalangle MDC = \sphericalangle M_1D_1C_1 \rightarrow \sphericalangle BDC = \sphericalangle B_1D_1C_1$$

( ovo nam treba za desni trougao )

$$MD = M_1D_1 \rightarrow MA = M_1A_1$$

( ovo nam treba za levi trougao )

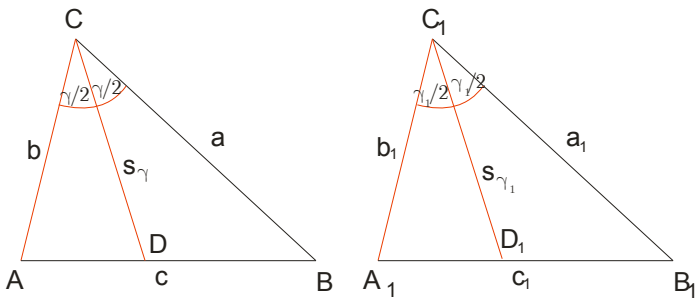
$$\left. \begin{array}{l} MA = M_1A_1 \\ h_c = h_{c_1} \\ \sphericalangle M = \sphericalangle M_1 = 90^\circ \end{array} \right\} \xrightarrow{SUS} \triangle AMC \cong \triangle A_1M_1C_1 \quad \text{( za levi trougao )}$$

$$\left. \begin{array}{l} \frac{c}{2} = \frac{c_1}{2} \\ t_c = t_{c_1} \\ \sphericalangle BDC = \sphericalangle B_1D_1C_1 \end{array} \right\} \xrightarrow{SUS} \triangle DBC \cong \triangle D_1B_1C_1 \quad \text{( za desni trougao )}$$

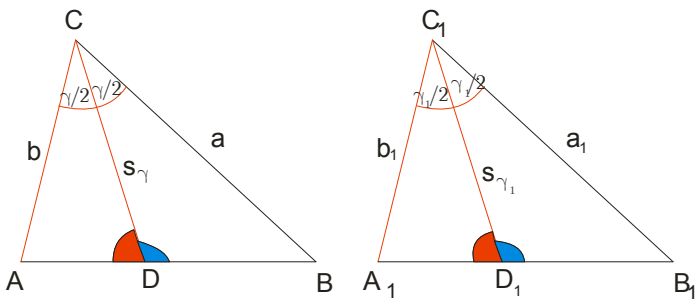
Iz svega sledi da je  $\triangle ABC \cong \triangle A_1B_1C_1$

d)  $\gamma = \gamma_1, b = b_1, s_\gamma = s_{\gamma_1}$

Da se podsetimo  $s_\gamma$  je dužina simetrale ugla  $\gamma$  (deli ugao na dva jednaka dela)



$$\left. \begin{array}{l} \frac{\gamma}{2} = \frac{\gamma_1}{2} \\ s_\gamma = s_{\gamma_1} \\ b = b_1 \end{array} \right\} \xrightarrow{SUS} \triangle DAC \cong \triangle D_1A_1C_1$$



**Zaključak koji nam treba:**  $\angle ADC = \angle A_1D_1C_1 \rightarrow \angle BDC = \angle B_1D_1C_1$

**Sad dokaz za desni trougao:**

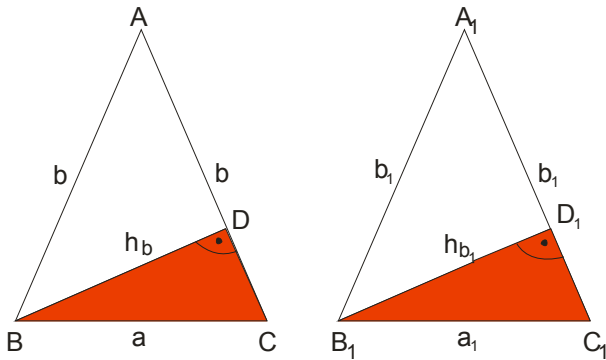
$$\left. \begin{array}{l} \frac{\gamma}{2} = \frac{\gamma_1}{2} \\ s_\gamma = s_{\gamma_1} \\ \angle BDC = \angle B_1D_1C_1 \end{array} \right\} \xrightarrow{USU} \triangle DBC \cong \triangle D_1B_1C_1$$

**Iz svega sledi da je**  $\triangle ABC \cong \triangle A_1B_1C_1$

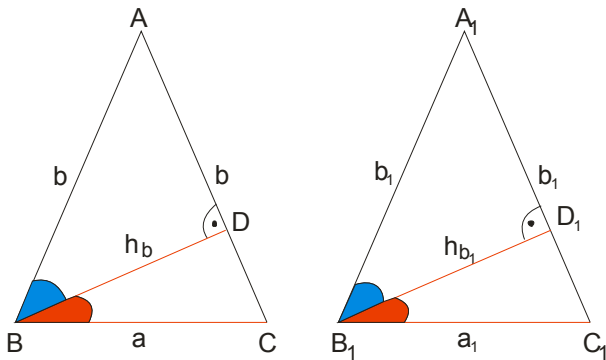
**Primer 2.**

**Dokazati da su dva jednakokraka trougla podudarna ako su im jednaki elementi  $a = a_1, h_b = h_{b_1}$**

**Rešenje:**



$$\left. \begin{array}{l} a = a_1 \\ h_b = h_{b_1} \\ \sphericalangle D = \sphericalangle D_1 = 90^\circ \end{array} \right\} \xrightarrow{SSU} \triangle DBC \cong \triangle D_1B_1C_1$$



Izvučemo zaključak iz prvog dela dokaza da je:  $\sphericalangle DBC = \sphericalangle D_1B_1C_1 \rightarrow \sphericalangle ABD = \sphericalangle A_1B_1D_1$  **jer je početni trougao jednakokrak.**

$$\left. \begin{array}{l} \sphericalangle ABD = \sphericalangle A_1B_1D_1 \\ h_b = h_{b_1} \\ \sphericalangle D = \sphericalangle D_1 = 90^\circ \end{array} \right\} \xrightarrow{USU} \triangle DBA \cong \triangle D_1B_1A_1$$

**Iz svega sledi da je  $\triangle ABC \cong \triangle A_1B_1C_1$**

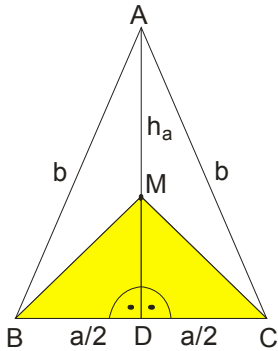
**Primer 3.**

Na visini AD koja odgovara osnovici BC jednakokrakog trougla ABC uočena je tačka M.

Dokazati da je  $MB = MC$ .

Rešenje:

Jednostavno uočimo dva trougla koji sadrže date duži i dokažemo da su oni podudarni a onda sledi da te duži moraju da budu jednake.



Uzećemo da je tačka M unutar trougla, a dokaz bi bio isti i da je na visini van trougla.

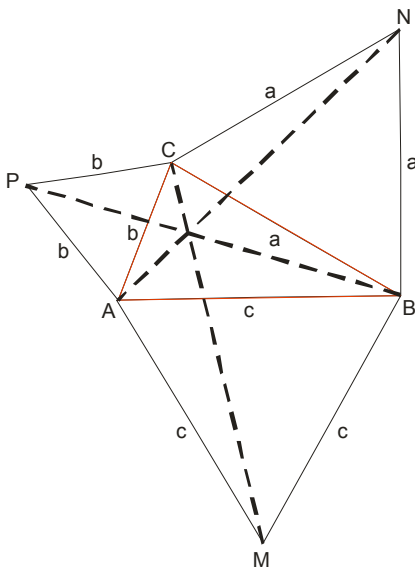
$$\left. \begin{array}{l} \frac{a}{2} = \frac{a}{2} \\ MD = MD \\ \angle D = \angle D_1 = 90^\circ \end{array} \right\} \xrightarrow{SUS} \triangle DBM \cong \triangle D_1M_1 \quad \text{odavde sledi da je } MB = MC$$

**Primer 4.**

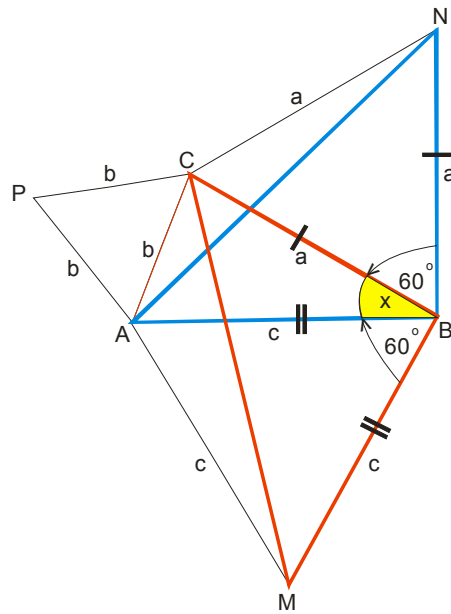
Dat je trougao ABC. Na njegovim stranicama spolja konstruisani su jednakokranični trouglovi ABM, BCN i ACP. Dokazati da su duži AN, BP i CM jednake.

Rešenje:

Da nacratmo najpre sliku i postavimo problem:



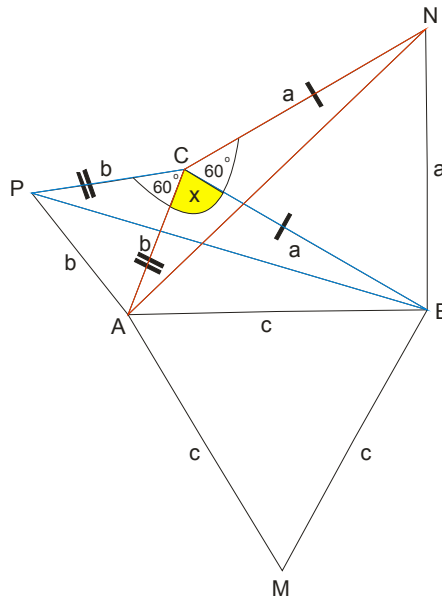
Uočimo trouglove koji sadrže duži CM i AN .



Dokazujemo da su trouglovi BCM i ABN podudarni ( crveni i plavi na slici )

$$\left. \begin{array}{l} BC = BN = a \\ MB = AB = c \\ \angle MBC = \angle ABN = 60^\circ + x \end{array} \right\} \xrightarrow{SUS} \triangle BCM \cong \triangle ABN \text{ pa je odavde } CM = AN$$

Uočimo trouglove koji sadrže AN i PB . To su trouglovi ACN i BPC



$$\left. \begin{array}{l} BC = CN = a \\ CP = AC = b \\ \angle BCP = \angle NCA = 60^\circ + x \end{array} \right\} \xrightarrow{SUS} \triangle BCP \cong \triangle ACN \text{ pa je odavde } AN = PB$$

Iz svega sledi da su duži AN, BP i CM jednake !