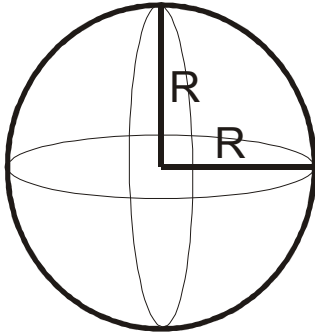


LOPTA

SFERA (LOPTA) i DELOVI LOPTE

$$P = 4R^2 \pi \quad V = \frac{4}{3} R^3 \pi$$



lopta

OVDE JE :

- R je poluprečnik lopte
- h je visina zone (odsečka, isečka)
- r_1 i r_2 su poluprečnici presečnih krugova

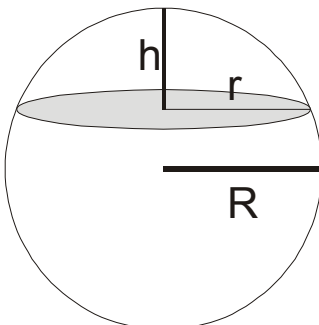
Površina kalote: $P = 2R \pi h$

Površina zone : $P = 2R \pi h$

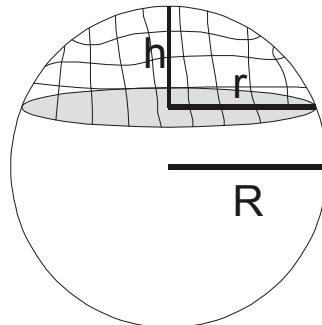
Zapremina loptinog odsečka: $V = \frac{\pi h^2}{3} (3R - h)$

Zapremina loptinog isečka: $V = \frac{2}{3} R^2 \pi h$

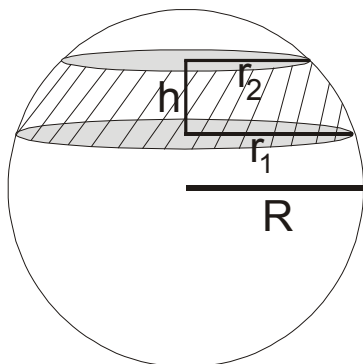
Zapremina loptinog sloja: $V = \frac{\pi h}{6} (3r_1^2 + 3r_2^2 + h^2)$



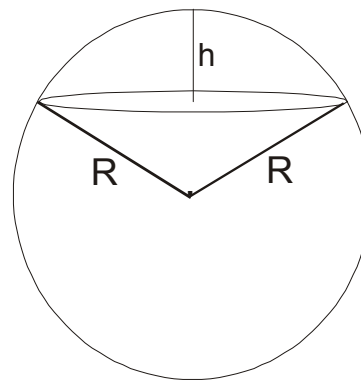
kalota(samo poklopac)



loptin odsecak



loptin sloj(zona)



loptin isečak
odsečak + kupa

UZAJAMNI POLOŽAJ LOPTE I DRUGIH TELA

- Da bi se u prizmu mogla upisati sfera potrebno je i dovoljno da se u njen normalni presek može upisati krug čiji je prečnik jednak visini prizme
- Da bi se u piramidu mogla upisati sfera dovoljno je da nagibni uglovi bočnih strana prema osnovi piramide budu jednaki
- Ako se oko poliedra može opisati sfera, tada njen centar leži u tački preseka simetralnih ravni svih ivica poliedra
- Da bi se oko prizme mogla opisati sfera potrebno je i dovoljno da prizma bude prava i da se oko njene osnove može opisati krug.
- Da bi se oko piramide mogla opisati sfera potrebno je i dovoljno da se oko njene osnove može opisati krug
- Lopta je upisana u prav valjak ako osnove i sve izvodnice valjka dodiruju loptu. To je moguće ako je prečnik osnove valjka jednak visini valjka
- Lopta je upisana u pravu kupu ako osnova i sve izvodnice kupe dodiruju loptu. To je uvek moguće!
- Lopta je opisana oko valjka ako su osnove valjka preseki lopte. Oko svakog pravog valjka može se opisati lopta
- Lopta je opisana oko kupe ako je osnova kupe presek lopte i ako vrh kupe pripada odgovarajućoj sferi. Oko svake kupe može se opisati lopta.

1) Površina lopte jednaka je 225π . Naći njenu zapreminu.

$$\frac{P = 225\pi}{V = ?}$$

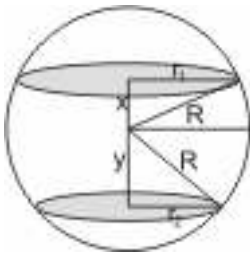
$$\begin{aligned} P &= 4R^2\pi \\ 225\pi &= 4R^2\pi \\ R^2 &= \frac{225}{4} \\ R &= \sqrt{\frac{225}{4}} \\ R &= \frac{15}{2} \\ R &= 7,5 \end{aligned}$$

$$V = \frac{4}{3}R^3\pi$$

$$V = \frac{4}{3}(7,5)^3\pi$$

$$V = 562,5\pi$$

2) Preseci dve ravni i lopte imaju površine 49π i 4π , a rastojanje izmedju tih ravni koje su sa raznih strana centra lopte iznosi 9. Naći površinu lopte.



$$\begin{aligned} P_1 &= 49\pi \\ P_2 &= 4\pi \\ h &= 9 \\ \hline P_L &= ? \end{aligned}$$

Preseci lopte su krugovi, pa ćemo odatle naći r_1 i r_2 .

$$\begin{aligned} P_1 &= r_1^2\pi & P_2 &= r_2^2\pi \\ 49\pi &= r_1^2\pi & 4\pi &= r_2^2\pi \\ r_1 &= 7 & r_2 &= 2 \end{aligned}$$

Uočimo dva pravougla trougla (na slici) čije su hipotenuze R a katete za jedan x i r_1 a za drugi y i r_2

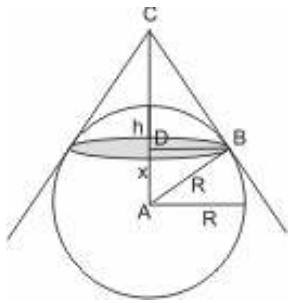
$$\left. \begin{aligned} R^2 &= x^2 + r_1^2 \\ R^2 &= y^2 + r_2^2 \end{aligned} \right\} \Rightarrow \begin{aligned} x^2 + r_1^2 &= y^2 + r_2^2 \\ x^2 + 49 &= y^2 + 4 \\ 45 &= (y-x)(y+x) \\ y-x &= 5 \end{aligned}$$

Sada je $y-x=5 \wedge y+x=9 \Rightarrow y=7$ zamenimo, pa je

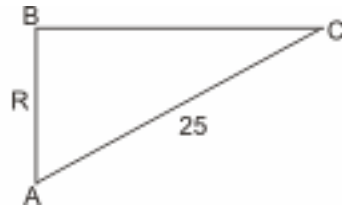
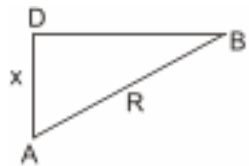
$$R^2 = 7^2 + 2^2 \Rightarrow R^2 = 53 \Rightarrow P = 4R^2\pi \Rightarrow P = 212\pi$$

3) Poluprečnik lopte je 15. Koji se deo površine lopte vidi iz tačke koje je od centra lopte udaljena za 25?

Nacrtamo najpre sliku:



Trouglovi ABC i ABD su očigledno pravougli i slični.
Izvucimo ih na stranu!!!



Iz njihove sličnosti sledi proporcionalnost stranica:

$$x : R = R : 25$$

$$x : 15 = 15 : 25$$

$$25x = 225$$

$$x = 9$$

Pošto je $x + h = R$

↓

$$h = R - x$$

$$h = 15 - 9$$

$$h = 6$$

Površina koja se vidi je ustvari kalota visine $h = 6$

$$P_K = 2R\pi h = 2 \cdot 15 \cdot \pi \cdot 6$$

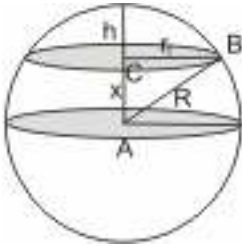
$$P_K = 180\pi$$

4) Izračunati zapreminu odsečka lopte ako je poluprečnik njegove osnove jednak 6, a poluprečnik lopte je 7,5

$$r_1 = 6$$

$$R = 7,5$$

Najpre i ovde nacrtamo sliku:



Iz pravouglog trougla ABC je: $X^2 = R^2 - r_1^2$
 $X^2 = 7,5^2 - 6^2$
 $X = 4,5$

Kako je $h + x = R$

$$h = R - x$$

$$h = 7,5 - 4,5$$

$$h = 3$$

Zapremina odsečka je:

$$V = \frac{\pi h^2}{3} (3R - h)$$

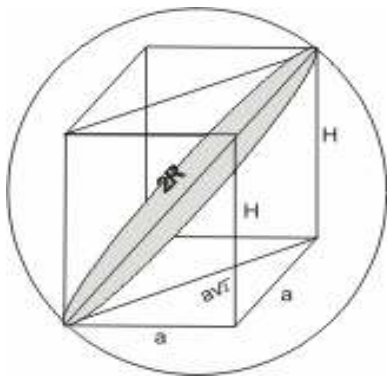
$$V = \frac{\pi \cdot 3^2}{3} (3 \cdot 7,5 - 3)$$

$$V = 3\pi \cdot 19,5$$

$$V = 58,5\pi$$

5) Površina lopte opisane oko prave pravilne četverostrane prizme osnovne ivice $a = 4$ je $P = 36\pi$. Izračunati površinu dijagonalnog preseka.

Nacrtajmo i ovde prvo sliku:



$$a = 4$$

$$P_L = 36\pi$$

Iz površine lopte ćemo izračunati poluprečnik:

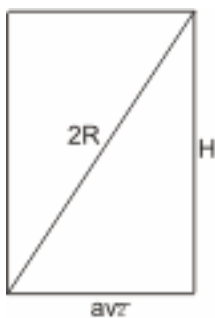
$$P_L = 4R^2\pi$$

$$36\pi = 4R^2\pi$$

$$R^2 = 9$$

$$R = 3$$

Izvučimo ‘na stranu’ dijagonalni presek:



Odavde je:

$$H^2 = (2R)^2 - (a\sqrt{2})^2$$

$$H^2 = 36 - (4\sqrt{2})^2$$

$$H^2 = 36 - 32$$

$$H^2 = 4$$

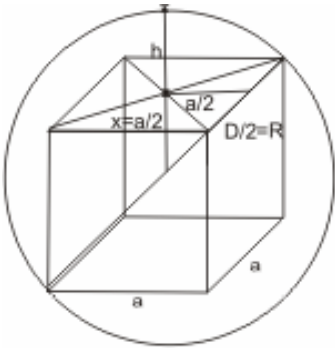
$$H = 2$$

Površina dijagonalnog preseka je:

$$P = a\sqrt{2} \cdot H = 4\sqrt{2} \cdot 2$$

$$P = 8\sqrt{2}$$

6) Oko kocke površine $P = 32$ opisana je lopta. Izračunati zapreminu dela lopte iznad gornje strane kocke.



Pošto je površina kocke

$$P = 32 \Rightarrow 6a^2 = 32$$

$$a^2 = \frac{32}{6}$$

$$a^2 = \frac{16}{3}$$

$$a = \frac{4}{\sqrt{3}} = \frac{4\sqrt{3}}{3}$$

Poluprečnik R lopte je očigledno jednak polovini telesne dijagonale $D = a\sqrt{3} = \frac{4\sqrt{3}}{3} \cdot \sqrt{3}$

$$D = 4$$

$$R = \frac{D}{2}$$

$$R = 2$$

Razmišljamo ovako:

→ Ovakvih odsečka ima 6.

→ Nadjemo zapreminu lopte i zapreminu kocke

→ Oduzmemo ih i podelimo sa 6.

$$V_L = \frac{4}{3}R^3\pi = \frac{4}{3}2^3\pi = \frac{32\pi}{3}$$

$$V_K = a^3 = \left(\frac{4\sqrt{3}}{3}\right)^3 = \frac{64 \cdot 3\sqrt{3}}{27} = \frac{64\sqrt{3}}{9}$$

$$V_L - V_K = \frac{32\pi}{3} - \frac{64\sqrt{3}}{9} = \frac{96\pi - 64\sqrt{3}}{9}$$

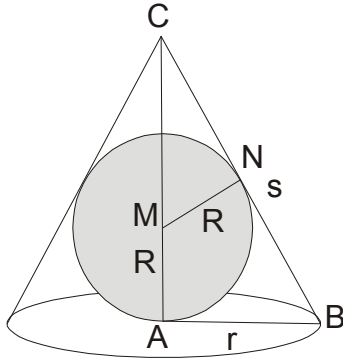
$$V_L - V_K = \frac{32(3\pi - 2\sqrt{3})}{9}$$

Sad nam treba ovo kroz 6

$$V_{OD} = \frac{V_L - V_K}{6} = \frac{32(3\pi - 2\sqrt{3})}{54}$$

$$V_{OD} = \frac{16}{27}(3\pi - 2\sqrt{3})$$

7) U pravu kupu čija izvodnica ima dužinu 15 i čiji je poluprečnik osnove 9, upisana je lopta. Naći zapreminu lopte.



$$s = 15$$

$$r = 9$$

$$V_L = ?$$

$$H^2 = s^2 - r^2$$

$$H^2 = 15^2 - 9^2$$

$$H^2 = 225 - 81$$

$$H^2 = 144$$

$$H = 12$$

Iz sličnosti trouglova ABC i MNC dobijamo:

$$R : r = (H - R) : S$$

$$R : 9 = (12 - R) : 15$$

$$15R = 9(12 - R)$$

$$15R = 108 - 9R$$

$$24R = 108$$

$$R = \frac{108}{24} = \frac{9}{2}$$

$$R = \frac{9}{2}$$

$$V = \frac{4}{3} R^3 \pi$$

$$V = \frac{4}{3} \left(\frac{9}{2} \right)^3 \pi$$

$$V = \frac{243\pi}{2}$$